

Constable GD in Central Armed Police Forces CAPFs SSF Rifleman GD in Assam Rifles Examination 2024

Exam Date	20/02/2024
Exam Time	5:00 PM - 6:00 PM
Subject	Constable GD Examination 2024

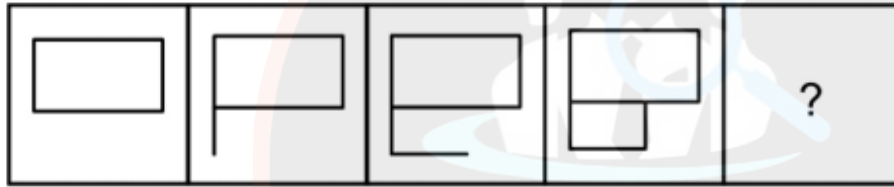
Section : Part-A-General Intelligence and Reasoning

Q.1 By interchanging which two signs and two numbers (not digits) the equation will be correct?

$$8 + 6 \times 4 - 3 \div 1 = 2$$

- Ans
- ✓ 1. + and -, 6 and 3
 - ✗ 2. × and ÷, 8 and 3
 - ✗ 3. × and ÷, 6 and 3
 - ✗ 4. + and ÷, 1 and 8

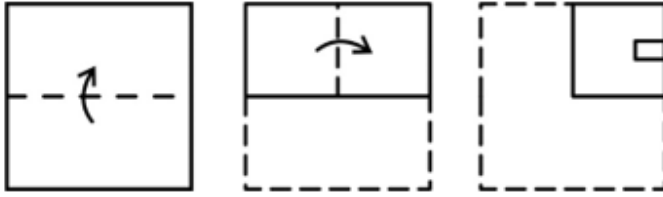
Q.2 Select the figure that will replace the question mark (?) in the following figure series.



Ans

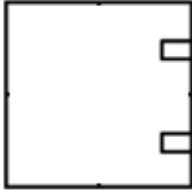
- ✓ 1.
- ✗ 2.
- ✗ 3.
- ✗ 4.

Q.3 A paper is folded and cut as shown below. How will it appear when unfolded?

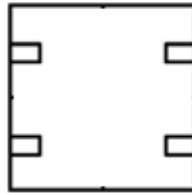


Ans

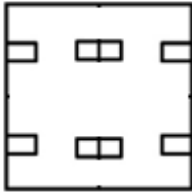
✗ 1.



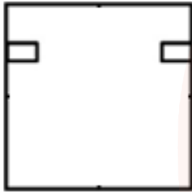
✓ 2.



✗ 3.



✗ 4.

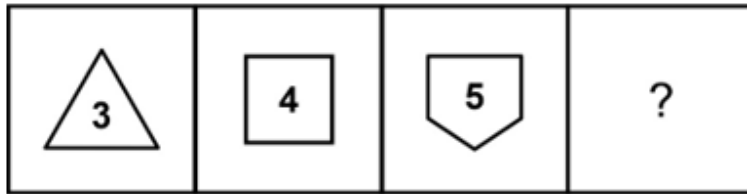


Q.4 In the following question, select the related letter pair from the given alternatives.

RPD : WUI :: ?

- Ans
- ✗ 1. BAC : OTT
 - ✗ 2. LDK : CFK
 - ✓ 3. XYM : CDR
 - ✗ 4. XOL : UPL

Q.5 Select the figure that will replace the question mark (?) in the following figure series.

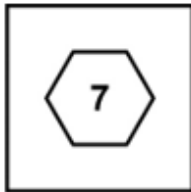


Ans

✗ 1.



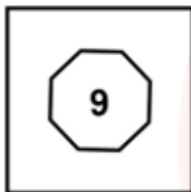
✗ 2.



✓ 3.



✗ 4.



Q.6 After arranging the given words according to dictionary order, which word will come at 'Third' position?

1. Small
2. Smart
3. Smack
4. Smash
5. Smatter

- Ans
- ✗ 1. Smash
 - ✓ 2. Smart
 - ✗ 3. Small
 - ✗ 4. Smack

Q.7 In a certain code language, 'MATURE' is coded as '82', 'HIGHER' is coded as '59'. What is the code for 'ASIAN' in that code language?

- Ans
- ✗ 1. 42
 - ✗ 2. 44
 - ✗ 3. 46
 - ✓ 4. 48

Q.8 Five friends Pooja, Bhawna, Charu, Geeta and Hema are sitting around a circular table facing towards the centre. Charu is not the neighbour of Bhawna. Bhawna is second to the left of Hema. Geeta is the neighbour of Bhawna and Hema. Who is sitting to the immediate right of Bhawna?

- Ans**
- 1. Geeta
 - 2. Pooja
 - 3. Charu
 - 4. Hema

Q.9 In the following question, select the related letters from the given alternatives.

KBZ : HYW :: VIF : ?

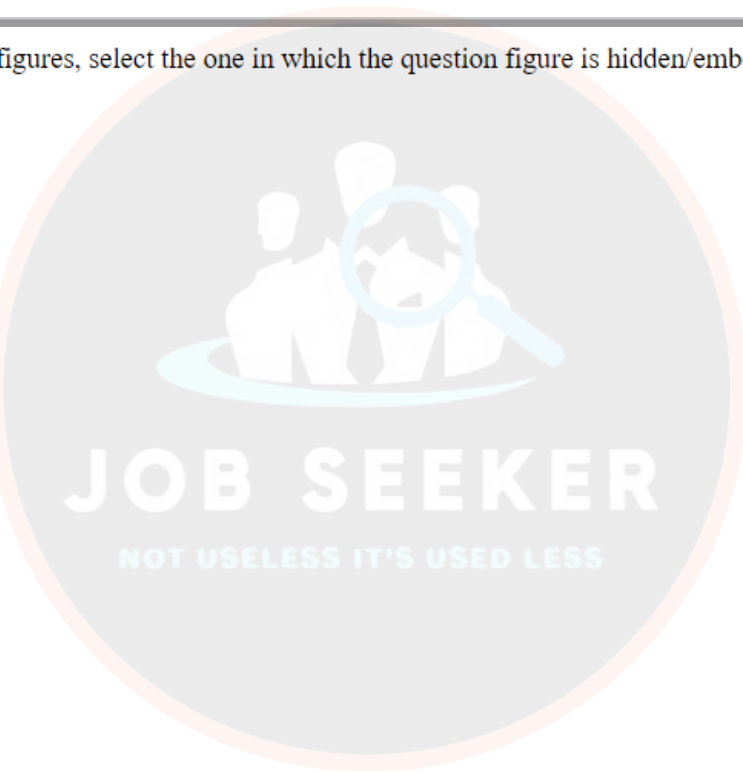
- Ans**
- 1. NOP
 - 2. HVA
 - 3. SFC
 - 4. SHM

Q.10 From the given option figures, select the one in which the question figure is hidden/embedded. (rotation is not allowed)



Ans

- 1.
- 2.
- 3.
- 4.



Q.11 A series is given with one term missing. Select the correct alternative from the given ones that will complete the series.

MQ, SO, QU, WS, ?

- Ans**
- 1. UX
 - 2. XT
 - 3. UY
 - 4. MH

Q.12 In the following question below are given some statements followed by some conclusions based on those statements. Taking the given statements to be true even if they seem to be at variance from commonly known facts. Read all the conclusions and then decide which of the given conclusion(s) logically follows the given statements.

Statements:

I. Some namkeen are pizza.

II. No pizza is biscuit.

Conclusions:

I. No biscuit is namkeen.

II. No biscuit is pizza.

III. Some pizza are not biscuit.

- Ans**
- 1. Only conclusion III follows
 - 2. Both conclusions II and III follows
 - 3. Both conclusions I and III follows
 - 4. All conclusion follows

Q.13 In a certain code language, 'BEHALF' is coded as 'DCJYND'. What is the code for 'CLINIC' in that code language?

- Ans**
- 1. EJKLKA
 - 2. EJLLLA
 - 3. EJKLKB
 - 4. EJKLLB

Q.14 In the following question, select the missing number from the given series.

86, 107, 82, 111, 78, 115, ?

- Ans**
- 1. 78
 - 2. 72
 - 3. 76
 - 4. 74

Q.15 Which two numbers should be interchanged to make the given equation correct?

$$5 - 3 \times 0 + 1 = 2$$

- Ans**
- 1. 5 and 3
 - 2. 5 and 2
 - 3. 1 and 3
 - 4. 2 and 0

Q.16 'Q × R' means 'Q is the wife of R'
'Q + R' means 'Q is the husband of R'
'Q ÷ R' means 'Q is the daughter of R'
'Q - R' means 'Q is the brother of R'
How is V related to T in the expression 'S - T ÷ U + V'?

- Ans
- 1. Sister
 - 2. Daughter
 - 3. Wife
 - 4. Mother

Q.17 In the following question, select the missing number from the given series.


6075, 2025, ?, 225, 75

- Ans
- 1. 690
 - 2. 680
 - 3. 675
 - 4. 700

Q.18 Which of the following letter cluster will replace the blank (____) in the given series?

PRQ, QSR, _____, SUT, TVU

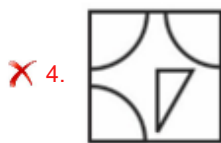
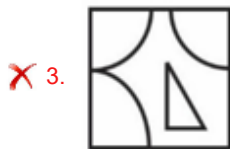
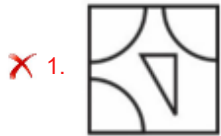
- Ans
- 1. QTS
 - 2. RUS
 - 3. RTS
 - 4. RST



Q.19 Which answer figure will complete the pattern in the question figure? (rotation is not allowed)



Ans



Q.20 Eight athletes Sunil, Abhishek, Mohit, Cheenu, Rahul, Tanu, Koyal and Ankit are sitting around a circular table facing opposite to the centre (not necessarily in the same order). Koyal is third to the left of Rahul. Tanu is third to the right of Cheenu. Mohit is second to the right of Sunil. Abhishek is second to the left of Cheenu. Tanu is second to the left of Sunil. Who is sitting second to the left of Koyal?

- Ans
- ✓ 1. Mohit
 - ✗ 2. Tanu
 - ✗ 3. Rahul
 - ✗ 4. Sunil

Section : Part-B-General Knowledge and General awareness

Q.1 Which of the following Mauryan inscriptions is NOT located in present-day India?

- Ans
- ✗ 1. Kalsi
 - ✓ 2. Kandahar
 - ✗ 3. Maski
 - ✗ 4. Girnar

Q.2 Which of the following countries borders India to the north-west?

- Ans
- 1. Bangladesh and Myanmar
 - 2. Afghanistan and Pakistan
 - 3. Myanmar and Nepal
 - 4. China, Bhutan and Nepal

Q.3 The Ministry of Agriculture and Farmers Welfare has launched a PM-KISAN AI Chatbot _____ in 2023, which will provide the farmers with a one-stop solution for their grievances related to the PM-KISAN scheme.

- Ans
- 1. Kisan e-Yojna
 - 2. Kisan e-Sandesh
 - 3. Kisan e-Samadhan
 - 4. Kisan e-Mitra

Q.4 Banking regulation Act was passed in:

- Ans
- 1. 1959
 - 2. 1999
 - 3. 1949
 - 4. 1967

Q.5 In June 2023, who has been awarded the Spinoza Prize, which is also sometimes referred to as the 'Dutch Nobel Prize'?

- Ans
- 1. Joyeeta Gupta
 - 2. Rekha Sharma
 - 3. M. Gauravi Reddy
 - 4. Madhabi Puri Buch

Q.6 Which of the parts of the Indian Constitution deals with the Directive Principles of State Policy?

- Ans
- 1. Part II
 - 2. Part IV
 - 3. Part I
 - 4. Part III

Q.7 In any tennis game, if both players win three points each in a game (i.e. score is 40-40), then it's called a _____.

- Ans
- 1. equal
 - 2. deuce
 - 3. back
 - 4. rattle

Q.8 What is the time period of the Eleventh five-year plan in India?

- Ans
- 1. 2007 - 2012
 - 2. 2009 - 2014
 - 3. 2008 - 2013
 - 4. 2010 - 2015

Q.9 Which musical instrument is played by Pt. Ravi Shankar?

- Ans
- 1. Been
 - 2. Sarod
 - 3. Sarangi
 - 4. Sitar

Q.10 Which religion has the majority population in India?

- Ans
- 1. Islam
 - 2. Hinduism
 - 3. Jainism
 - 4. Christianity

Q.11 The "Hornbill Festival" features which indigenous tribes showcasing their culture and traditions?

- Ans
- 1. Gond
 - 2. Garo
 - 3. Naga
 - 4. Bhil

Q.12 In 1866, John Newlands, an English scientist, arranged the then known elements in the order of _____. It is known as 'Newlands' Law of Octaves'.

- Ans
- 1. decreasing atomic masses
 - 2. increasing atomic number
 - 3. increasing atomic masses
 - 4. decreasing atomic number

Q.13 'Mundari' dance is associated with which of the following state?

- Ans
- 1. Kerala
 - 2. Jharkhand
 - 3. Uttar Pradesh
 - 4. Tamil Nadu

Q.14 The Green Revolution started in the year 1965 and the _____ five year plan was between 1961-1966.

- Ans
- 1. 5th
 - 2. 2nd
 - 3. 1st
 - 4. 3rd

Q.15 The Jallianwala Bagh massacre, took place in consequence to the protest against the _____.

- Ans
- 1. Regulating Act
 - 2. Rowlatt Act
 - 3. Pitt's India Act
 - 4. Government of India Act

Q.16 Which country will host the 2026 Asian games?

- Ans
- 1. Thailand
 - 2. Japan
 - 3. China
 - 4. Qatar

Q.17 Which sport is the Agha Khan Cup associated with?

- Ans
- 1. Kabaddi
 - 2. Hockey
 - 3. Cricket
 - 4. Rugby

Q.18 Which of the following is the least populous state of India as per 2011 census?

- Ans
- 1. Meghalaya
 - 2. Assam
 - 3. Sikkim
 - 4. Goa

Q.19 Which Indian dancer won the Sangeet Natak Akademi Award in 2018 for Chhau Dance?

- Ans
- 1. Akham Lakshmi Devi
 - 2. Tapan Kumar Pattanayak
 - 3. Dr. Aruna Mohanty
 - 4. Gopika Varma

Q.20 When the office of Chairman of the Council of States is vacant, then his or her duties shall be performed by which of the following?

- Ans
- 1. Speaker of the House of the People
 - 2. President of India
 - 3. Senior most member of the Council of States
 - 4. Deputy Chairman of the Council of States

Section : Part-C-Elementary Mathematics

Q.1 Sonu alone can make a table in 125 days while Monu alone can make it in 250 days. Monu started the work and worked for 75 days. In how many days Sonu can finish the remaining work?

- Ans
- 1. 135 days
 - 2. 120 days
 - 3. 100 days
 - 4. 87.5 days

Q.2 The present ages of three people in proportions is 3:5:7. Six years ago, the sum of their ages was 87. Find their present ages (in years).

- Ans
- 1. 24 years, 40 years, 56 years
 - 2. 18 years, 30 years, 42 years
 - 3. 21 years, 35 years, 49 years
 - 4. 27 years, 45 years, 63 years

Q.3 The radius of a sphere is 3.5 cm. What is the total surface area of the sphere?

- Ans
- 1. 176 cm^2
 - 2. 128 cm^2
 - 3. 196 cm^2
 - 4. 154 cm^2

Q.4 What is the value of $443 - 226 \div 2 \times 5$?

- Ans
- 1. -127
 - 2. -119
 - 3. -121
 - 4. -122

Q.5 A bus left 60 minutes later than the scheduled time but in order to reach its destination 300 km away in time, it had to increase its usual speed by 10 km/hr. What is the usual speed of the bus?

- Ans
- 1. 50 km/hr
 - 2. 60 km/hr
 - 3. 40 km/hr
 - 4. 30 km/hr

Q.6 X1, X2 and X3 can do a work in 90, 45 and 67.5 days respectively. All three of them began the work together but X2 left 13.5 days before the completion of the work. In how many days was the work completed?

- Ans
- 1. 25 days
 - 2. 24 days
 - 3. 18 days
 - 4. 27 days

Q.7 Marked price of an article is Rs. 11800 and its selling price is Rs. 7788. What is the discount percentage?

- Ans
- 1. 30 percent
 - 2. 34 percent
 - 3. 32 percent
 - 4. 35 percent

Q.8 If the price of a dress is reduced from Rs. 800 to Rs. 720, what is the percentage decrease?

- Ans
- 1. 6%
 - 2. 9%
 - 3. 8%
 - 4. 10%

Q.9 The average marks of 13 students was 130. But later it was found that the score of one student was wrongly entered as 23 instead of 32. What is the correct average of their score?

- Ans
- 1. 132.28
 - 2. 131.72
 - 3. 130.69
 - 4. 130.88

Q.10 Ankit sells an article at a loss of 10 percent. If he buys it for 30 percent less price and sells it for Rs. 26 less price, then his profit will be 10 percent. What is the cost price of the article?

- Ans
- 1. Rs. 300
 - 2. Rs. 250
 - 3. Rs. 320
 - 4. Rs. 200

Q.11 What is the remainder when 35^{29} is divided by 10?

- Ans
- 1. 5
 - 2. 4
 - 3. 6
 - 4. 0

Q.12 Prithvi has pears and peaches in the ratio of 10:13. Celine has pears and peaches in the ratio of 7:9. Vikram has pears and peaches in the ratio of 5:7. Who has a greater ratio of pears to peaches?

- Ans
- 1. Vikram
 - 2. Prithvi
 - 3. All are equal
 - 4. Celine

Q.13 The average weight of a class of 22 students is 42 kg. If 2 new students of weight 33 kg and 39 kg are added to the class, then what will be the new average weight of 24 students?

- Ans
- 1. 41.5 kg
 - 2. 39.5 kg
 - 3. 43 kg
 - 4. 42 kg

Q.14 A man buys 35 mangoes for a rupee. How many mangoes had he sold for a rupee so that there is a loss of 30 percent?

- Ans
- 1. 33
 - 2. 45
 - 3. 27
 - 4. 50

Q.15 Simple interest and compound interest on a principal at a certain rate of interest for 2 years is Rs. 12800 and Rs. 14400 respectively. What is the principal?

- Ans
- 1. Rs. 25600
 - 2. Rs. 27800
 - 3. Rs. 24400
 - 4. Rs. 29900

Q.16 What is the value of $2016 \div 4 + 32 \times 6 - 26 \times 3$?

- Ans
- 1. 626
 - 2. 624
 - 3. 618
 - 4. 628

Q.17 The marked price of a chair is 20 percent more than its cost price. If the chair is sold for Rs. 220 after a discount of Rs. 20, then what will be the profit percentage?

- Ans
- 1. 20 percent
 - 2. 30 percent
 - 3. 10 percent
 - 4. 15 percent

Q.18 What is the value of $(48 - (20 - 8)) \div (4 \times 3)$?

- Ans
- 1. 4
 - 2. 3
 - 3. 2
 - 4. 1

Q.19 A certain sum becomes 7 times of itself in 10 years at a rate of simple interest. In 20 years it will become how many times of itself at the same rate of simple interest?

- Ans
- 1. 14
 - 2. 10
 - 3. 12
 - 4. 13

Q.20 Vikram scored 32 percent marks in an exam and failed by 15 marks. If he scores 57 percent marks, then he gets 10 marks more than passing marks. What should be the passing marks for the exam?

- Ans
- 1. 57
 - 2. 52
 - 3. 49
 - 4. 47

Section : Part-D-English

Q.1 In the following question, out of the given four alternatives, select the alternative which best expresses the meaning of the Idiom/Phrase.

A stick in the mud

- Ans
- 1. A person with no character
 - 2. A person without any fear
 - 3. A person who resists change
 - 4. A generous person

Q.2 Choose the idiom/phrase that can substitute the highlighted group of words meaningfully.

The matter was discussed **privately without any intruders.**

- Ans
- 1. Run out of steam
 - 2. Behind closed doors
 - 3. On the fence
 - 4. Through thick and thin

Q.3 Improve the underlined part of the sentence. Choose 'No improvement' as an answer if the sentence is grammatically correct.

A large number of people have been get clean and pure water.

- Ans
- 1. No improvement
 - 2. have been getting
 - 3. has been got
 - 4. been gets

Q.4 Find the part of the given sentence that has an error in it. If there is no error, choose 'No error'.

Consumers sometimes has a good ability to identify counterfeit logos when the legitimate brand is well-recognized.

- Ans
- 1. legitimate brand is well-recognized.
 - 2. No error
 - 3. Consumers sometimes has a good ability to
 - 4. identify counterfeit logos when the

Q.5 Fill in the blank with the most appropriate option.

The horn of the car ahead was _____ by the resistance of the thick air.

- Ans
- 1. dim
 - 2. faint
 - 3. mute
 - 4. muffled

Q.6 Choose the most appropriate antonym of the underlined word.

The cow happily recovered, which the widow entirely attributed to the efficacy of her pastor's prayer.

- Ans
- 1. Inadequacy
 - 2. Potency
 - 3. Virtue
 - 4. Effect

Q.7 Select the most appropriate option for the given blank.

You must _____ your defeat now, as you are left with no soldiers.

- Ans
- 1. defer
 - 2. admit
 - 3. buy
 - 4. get

Q.8 Select the most appropriate word to fill in the blank.

They _____ a mammoth task ahead of them.

- Ans
- 1. have
 - 2. does
 - 3. needs
 - 4. has

Q.9 Find the part of the given sentence that has an error in it. If there is no error, choose 'No error'.

I am not the most wisest person here to teach you this lesson.

- Ans
- 1. I am not the most wisest
 - 2. teach you this lesson.
 - 3. No error
 - 4. person here to

Q.10 Replace the bracketed word with one of the given options, which suitably replaces the word without changing the meaning of the sentence:

A successful outcome could ultimately lead to its use in (autonomous) planetary rovers and robot aircraft.

- Ans
- 1. obstruct
 - 2. independent
 - 3. unanimous
 - 4. occlude

Q.11 Choose the word that means the same as the given word.

Fantastically

- Ans
- 1. Scantly
 - 2. Scarcely
 - 3. Fabulously
 - 4. Nominally

Q.12 Select the most appropriate option for the given blank.

There is no need to jump to a _____ so soon.

- Ans
- 1. resistance
 - 2. incision
 - 3. conclusion
 - 4. finale

Q.13 Find the part of the given sentence that has an error in it. If there is no error, choose 'No error'.

A thousand years ago, boys and girls did not learnt to read.

- Ans
- 1. boys and girls did
 - 2. No error
 - 3. A thousand years ago
 - 4. not learnt to read.

Q.14 The sentence has been divided into three parts, identify the segment which contains a spelling error in the sentence given below. Choose no error if there is no error in the sentence.

The seizmic zoning displayed/ that the area had been prone/ to many earthquakes.

- Ans
- 1. no error
 - 2. that the area had been prone
 - 3. The seizmic zoning displayed
 - 4. to many earthquakes.

Q.15 Select the sentence with no spelling errors.

- Ans
- 1. We were disillusioned when we saw how the movie star acted in reale life.
 - 2. We were disillusioned when we saw how the movvie star acted in real life.
 - 3. We were disillusioned when we saw how the movie star acted in real life.
 - 4. We were disilusioned when we saw how the movie star acted in real life.

Comprehension:

Read the passage carefully and select the correct answer for the given blanks out of the four alternatives.

The India Meteorological department (IMD) had (1) _____ a warning regarding a heatwave for March 8 and 9 for Goa. The warning stated, "With the strengthening of easterly winds, clear sky (2) _____ and delay in setting time of sea breeze, the maximum temperature over Goa is likely to remain 4-6°C (3) _____ than its normal value. Persistence of these conditions is likely to satisfy the criteria of a heat wave over Goa (4) _____ Thursday". Many schools in Goa are conducting exams and have been (5) _____ to advance the timing.

SubQuestion No : 16

Q.16 Select the most appropriate option for blank (1)

- Ans
- 1. mitigated
 - 2. produced
 - 3. issued
 - 4. distributed

Comprehension:

Read the passage carefully and select the correct answer for the given blanks out of the four alternatives.

The India Meteorological department (IMD) had (1) _____ a warning regarding a heatwave for March 8 and 9 for Goa. The warning stated, "With the strengthening of easterly winds, clear sky (2) _____ and delay in setting time of sea breeze, the maximum temperature over Goa is likely to remain 4-6°C (3) _____ than its normal value. Persistence of these conditions is likely to satisfy the criteria of a heat wave over Goa (4) _____ Thursday". Many schools in Goa are conducting exams and have been (5) _____ to advance the timing.

SubQuestion No : 17

Q.17 Select the most appropriate option for blank (2)

- Ans
- 1. conditions
 - 2. phases
 - 3. complications
 - 4. adjustments

Comprehension:

Read the passage carefully and select the correct answer for the given blanks out of the four alternatives.

The India Meteorological department (IMD) had (1) _____ a warning regarding a heatwave for March 8 and 9 for Goa. The warning stated, "With the strengthening of easterly winds, clear sky (2) _____ and delay in setting time of sea breeze, the maximum temperature over Goa is likely to remain 4-6°C (3) _____ than its normal value. Persistence of these conditions is likely to satisfy the criteria of a heat wave over Goa (4) _____ Thursday". Many schools in Goa are conducting exams and have been (5) _____ to advance the timing.

SubQuestion No : 18

Q.18 Select the most appropriate option for blank (3)

- Ans**
- 1. High
 - 2. Highly
 - 3. Highest
 - 4. higher

Comprehension:

Read the passage carefully and select the correct answer for the given blanks out of the four alternatives.

The India Meteorological department (IMD) had (1) _____ a warning regarding a heatwave for March 8 and 9 for Goa. The warning stated, "With the strengthening of easterly winds, clear sky (2) _____ and delay in setting time of sea breeze, the maximum temperature over Goa is likely to remain 4-6°C (3) _____ than its normal value. Persistence of these conditions is likely to satisfy the criteria of a heat wave over Goa (4) _____ Thursday". Many schools in Goa are conducting exams and have been (5) _____ to advance the timing.

SubQuestion No : 19

Q.19 Select the most appropriate option for blank (4)

- Ans**
- 1. at
 - 2. in
 - 3. over
 - 4. on

Comprehension:

Read the passage carefully and select the correct answer for the given blanks out of the four alternatives.

The India Meteorological department (IMD) had (1) _____ a warning regarding a heatwave for March 8 and 9 for Goa. The warning stated, "With the strengthening of easterly winds, clear sky (2) _____ and delay in setting time of sea breeze, the maximum temperature over Goa is likely to remain 4-6°C (3) _____ than its normal value. Persistence of these conditions is likely to satisfy the criteria of a heat wave over Goa (4) _____ Thursday". Many schools in Goa are conducting exams and have been (5) _____ to advance the timing.

SubQuestion No : 20

Q.20 Select the most appropriate option for blank (5)

- Ans**
- 1. asking
 - 2. said
 - 3. tell
 - 4. told

Q.1 निम्नलिखित प्रश्न में, चार विकल्पों में से, उस विकल्प का चयन करें जो दी गई लोकोक्ति का सही अर्थ वाला विकल्प है।

अपनी करनी पार उतरनी

- Ans
- ✗ 1. गुणहीन व्यक्तियों में कम गुण वाला व्यक्ति राजा माना जाता है
 - ✗ 2. संगठन में शक्ति होती है
 - ✓ 3. मनुष्य को अपने कर्मों के अनुसार ही फल मिलता है
 - ✗ 4. जहाँ रहो वहाँ के रिवाज़ के अनुसार रहो

Q.2 दिए गए वाक्य में से गलत वर्तनी ज्ञात कीजिए।

सभी भाईयों के बीच सम्पत्ति के लिए कलह हो रहा है।

- Ans
- ✗ 1. सभी
 - ✗ 2. भाईयों
 - ✓ 3. सम्पत्ति
 - ✗ 4. कलह

Q.3 दिए गए वाक्य में रेखांकित शब्द का विलोम शब्द ज्ञात कीजिए।

सुरेश बेरहमी से सबसे पेश आता है।

- Ans
- ✗ 1. सब्र
 - ✗ 2. कठोर
 - ✗ 3. बुराई
 - ✓ 4. रहमदिली

Q.4 दिए गए वाक्यांश के लिए सार्थक शब्द ज्ञात कीजिए।

जो संविधान के अनुकूल हो

- Ans
- ✓ 1. संवैधानिक
 - ✗ 2. नियमानुकूल
 - ✗ 3. अवैध
 - ✗ 4. कानूनी

Q.5 निम्नलिखित प्रश्न में, चार विकल्पों में से, उस विकल्प का चयन करें जो कोष्ठक में दिए गए शब्द के तत्सम रूप का सही विकल्प है। आप सभी को (यहाँ) _____ से जाने के लिए कहा गया है।

- Ans
- ✗ 1. अग्र
 - ✗ 2. अन्न
 - ✗ 3. अर्क
 - ✓ 4. अत्र

Q.6 दिए गए वाक्य में रेखांकित शब्दों के लिए सही शब्दों वाले विकल्प का चयन करें।

यहाँ शुद्ध गाय का दूध मिलता है।

- Ans
- ✗ 1. यहाँ शुद्ध गाय की दूध मिलता है।
 - ✗ 2. यहाँ शुद्ध दूध का गाय मिलता है।
 - ✗ 3. परिवर्तन की आवश्यकता नहीं है।
 - ✓ 4. यहाँ गाय का शुद्ध दूध मिलता है।

Q.7 दिए गए विकल्पों में से तीन विकल्प त्रुटियुक्त हैं, जबकि एक सही है। उस सही विकल्प का चयन करें।

- Ans
- ✓ 1. मैं तुमसे रविवार को मिलूँगा।
 - ✗ 2. मैं तुमसे रविवार के दिन को मिलूँगा।
 - ✗ 3. मैं तुमसे रविवार में मिलूँगा।
 - ✗ 4. मैं तुमसे रविवार के दिन मिलूँगा।

Q.8 दिए गए वाक्य में उचित पर्यायवाची शब्द का चयन करके रिक्त स्थान की पूर्ति करें।

सीता माता का नाम _____ भी है।

- Ans
- ✗ 1. लौकिक
 - ✗ 2. कोयल
 - ✗ 3. मनभावन
 - ✓ 4. जानकी

Q.9 दिए गए वाक्य में रेखांकित शब्द का विलोम शब्द ज्ञात कीजिए।

पश्चिम भारत आधुनिक मंदिरों से भरा हुआ है।

- Ans
- ✗ 1. नए
 - ✗ 2. अनुद्यमी
 - ✓ 3. पौराणिक
 - ✗ 4. नवीन

Q.10 दिए गए वाक्य में रेखांकित शब्द के लिए सही वर्तनी ज्ञात कीजिए।

शिघ्र ही वैद को ले आओ।

- Ans
- 1. शीघ्र
 - 2. शिघ्र
 - 3. शिर्घ
 - 4. शीघ्र

Q.11 निम्नलिखित प्रश्न में, चार विकल्पों में से, उस सही विकल्प का चयन करें जो वाक्यांश के लिए एक शब्द का विकल्प हो।

जिसका उदय हाल में हुआ हो

- Ans
- 1. नवोदित
 - 2. नवजात
 - 3. नवोद्गा
 - 4. नटराज

Q.12 निम्नलिखित प्रश्न में, चार विकल्पों में से, उस विकल्प का चयन करें जो कोष्ठक में दिए गए शब्द के तद्भव रूप का सही विकल्प है।

किले की सुरक्षा के लिए (परिकूट) _____ होना चाहिए, हथियारबन्द चौकीदार होने चाहिए।

- Ans
- 1. सैनिक
 - 2. पर्याप्त
 - 3. परकोटा
 - 4. पंद्रह

Q.13 निम्नलिखित प्रश्न में, चार विकल्पों में से, उस विकल्प का चयन करें जो दिए गए मुहावरे का सही अर्थ वाला विकल्प है।

छलनी कर डालना

- Ans
- 1. रौनक होना
 - 2. बेफिक्र होना
 - 3. मन में वैराग पैदा होना
 - 4. शोक-विह्वल कर देना

Q.14 दिए गए वाक्य का वह भाग ज्ञात करें, जिसमें कोई त्रुटि है। यदि कोई त्रुटि नहीं है, तो 'कोई त्रुटि नहीं है' चुनें।

यह काम चार आदमी का है। इसे अकेले मत करो।

- Ans
- 1. चार आदमी का
 - 2. है। इसे अकेले मत करो।
 - 3. कोई त्रुटि नहीं है
 - 4. यह काम

Q.15 निम्नलिखित प्रश्न में, चार विकल्पों में से, उस विकल्प का चयन करें जो कोष्ठक में दिए गए शब्द के पर्यायवाची शब्द का सही विकल्प है।
गुलाब के फूल में बहुत से (काँटे) _____ होते हैं।

- Ans
- 1. कूर्म
 - 2. शूल
 - 3. सुनक
 - 4. सूम

Comprehension:

नीचे दिए गये गद्यांश में कुछ शब्द छोड़ दिये गए हैं, प्रत्येक अनुच्छेद के सामने चार विकल्प दिए गए हैं। इस गद्यांश को ध्यानपूर्वक पढ़ें और चार विकल्पों में से सर्वोत्तम उत्तर वाला विकल्प चुनें।

वर्तमान काल में यदि संसार के किसी भी कोने में कोई भी घटना घटित हो तो उसके अगले दिन हमारे पास उसकी खबर आ जाती है। ऐसा सिर्फ समाचार पत्रों के कारण ही _____ होता है। आज के समय में बिना समाचार पत्र के जीवन की _____ करना भी काफी कठिन है। यह वो पहली और आवश्यक वस्तु है, जिसे सभी हर सुबह सबसे पहले देखते हैं। यह हमें पूरे विश्व में हो रही _____ के बारे में जानकारी देकर वर्तमान समय से जुड़े रखने में हमारी मदद करता है। समाचार पत्र व्यापारियों, राजनितिज्ञों, सामाजिक मुद्दों, बेरोजगारों, खेल, अन्तरराष्ट्रीय समाचार, विज्ञान, शिक्षा, दवाइयों, अभिनेताओं, मेलों, त्योहारों, तकनीकों आदि की जानकारी हमें देता है। यह हमारे ज्ञान कौशल और तकनीकी _____ को बढ़ाने में भी हमारी सहायता करता है। पहले के समय में, समाचार पत्रों में केवल खबरों का विवरण प्रकाशित होता था। हालांकि, अब इसमें बहुत से विषयों के बारे में खबरें और विशेषज्ञों के विचार यहाँ तक कि, लगभग सभी विषयों की जानकारी भी निहित होती है। बहुत से समाचार पत्रों की कीमत बाजार में उनकी खबरों के _____ और उस क्षेत्र में प्रसिद्धि के कारण अलग-अलग होती है। समाचार पत्र या अखबार में दैनिक जीवन की सभी वर्तमान घटनाएं नियमित रूप से छपती है।

SubQuestion No : 16

Q.16 ऐसा सिर्फ समाचार पत्रों के कारण ही _____ होता है।

- Ans
- 1. संभव
 - 2. देखा
 - 3. विफल
 - 4. मुश्किल

Comprehension:

नीचे दिए गये गद्यांश में कुछ शब्द छोड़ दिये गए हैं, प्रत्येक अनुच्छेद के सामने चार विकल्प दिए गए हैं। इस गद्यांश को ध्यानपूर्वक पढ़ें और चार विकल्पों में से सर्वोत्तम उत्तर वाला विकल्प चुनें।

वर्तमान काल में यदि संसार के किसी भी कोने में कोई भी घटना घटित हो तो उसके अगले दिन हमारे पास उसकी खबर आ जाती है। ऐसा सिर्फ समाचार पत्रों के कारण ही _____ होता है। आज के समय में बिना समाचार पत्र के जीवन की _____ करना भी काफी कठिन है। यह वो पहली और आवश्यक वस्तु है, जिसे सभी हर सुबह सबसे पहले देखते हैं। यह हमें पूरे विश्व में हो रही _____ के बारे में जानकारी देकर वर्तमान समय से जुड़े रखने में हमारी मदद करता है। समाचार पत्र व्यापारियों, राजनितिज्ञों, सामाजिक मुद्दों, बेरोजगारों, खेल, अन्तरराष्ट्रीय समाचार, विज्ञान, शिक्षा, दवाइयों, अभिनेताओं, मेलों, त्योहारों, तकनीकों आदि की जानकारी हमें देता है। यह हमारे ज्ञान कौशल और तकनीकी _____ को बढ़ाने में भी हमारी सहायता करता है। पहले के समय में, समाचार पत्रों में केवल खबरों का विवरण प्रकाशित होता था। हालांकि, अब इसमें बहुत से विषयों के बारे में खबरें और विशेषज्ञों के विचार यहाँ तक कि, लगभग सभी विषयों की जानकारी भी निहित होती है। बहुत से समाचार पत्रों की कीमत बाजार में उनकी खबरों के _____ और उस क्षेत्र में प्रसिद्धि के कारण अलग-अलग होती है। समाचार पत्र या अखबार में दैनिक जीवन की सभी वर्तमान घटनाएँ नियमित रूप से छपती है।

SubQuestion No : 17

Q.17 आज के समय में बिना समाचार पत्र के जीवन की _____ करना भी काफी कठिन है।

- Ans
- ✗ 1. आवश्यकता
 - ✗ 2. संरचना
 - ✗ 3. ज़रूरत
 - ✓ 4. कल्पना

Comprehension:

नीचे दिए गये गद्यांश में कुछ शब्द छोड़ दिये गए हैं, प्रत्येक अनुच्छेद के सामने चार विकल्प दिए गए हैं। इस गद्यांश को ध्यानपूर्वक पढ़ें और चार विकल्पों में से सर्वोत्तम उत्तर वाला विकल्प चुनें।

वर्तमान काल में यदि संसार के किसी भी कोने में कोई भी घटना घटित हो तो उसके अगले दिन हमारे पास उसकी खबर आ जाती है। ऐसा सिर्फ समाचार पत्रों के कारण ही _____ होता है। आज के समय में बिना समाचार पत्र के जीवन की _____ करना भी काफी कठिन है। यह वो पहली और आवश्यक वस्तु है, जिसे सभी हर सुबह सबसे पहले देखते हैं। यह हमें पूरे विश्व में हो रही _____ के बारे में जानकारी देकर वर्तमान समय से जुड़े रखने में हमारी मदद करता है। समाचार पत्र व्यापारियों, राजनितिज्ञों, सामाजिक मुद्दों, बेरोजगारों, खेल, अन्तरराष्ट्रीय समाचार, विज्ञान, शिक्षा, दवाइयों, अभिनेताओं, मेलों, त्योहारों, तकनीकों आदि की जानकारी हमें देता है। यह हमारे ज्ञान कौशल और तकनीकी _____ को बढ़ाने में भी हमारी सहायता करता है। पहले के समय में, समाचार पत्रों में केवल खबरों का विवरण प्रकाशित होता था। हालांकि, अब इसमें बहुत से विषयों के बारे में खबरें और विशेषज्ञों के विचार यहाँ तक कि, लगभग सभी विषयों की जानकारी भी निहित होती है। बहुत से समाचार पत्रों की कीमत बाजार में उनकी खबरों के _____ और उस क्षेत्र में प्रसिद्धि के कारण अलग-अलग होती है। समाचार पत्र या अखबार में दैनिक जीवन की सभी वर्तमान घटनाएँ नियमित रूप से छपती है।

SubQuestion No : 18

Q.18 यह हमें पूरे विश्व में हो रही _____ के बारे में जानकारी देकर वर्तमान समय से जुड़े रखने में हमारी मदद करता है।

- Ans
- ✓ 1. घटनाओं
 - ✗ 2. संकल्पनाओं
 - ✗ 3. खेलों
 - ✗ 4. त्योहारों

Comprehension:

नीचे दिए गये गद्यांश में कुछ शब्द छोड़ दिये गए हैं, प्रत्येक अनुच्छेद के सामने चार विकल्प दिए गए हैं। इस गद्यांश को ध्यानपूर्वक पढ़ें और चार विकल्पों में से सर्वोत्तम उत्तर वाला विकल्प चुनें।

वर्तमान काल में यदि संसार के किसी भी कोने में कोई भी घटना घटित हो तो उसके अगले दिन हमारे पास उसकी खबर आ जाती है। ऐसा सिर्फ समाचार पत्रों के कारण ही _____ होता है। आज के समय में बिना समाचार पत्र के जीवन की _____ करना भी काफी कठिन है। यह वो पहली और आवश्यक वस्तु है, जिसे सभी हर सुबह सबसे पहले देखते हैं। यह हमें पूरे विश्व में हो रही _____ के बारे में जानकारी देकर वर्तमान समय से जुड़े रखने में हमारी मदद करता है। समाचार पत्र व्यापारियों, राजनितिज्ञों, सामाजिक मुद्दों, बेरोजगारों, खेल, अन्तरराष्ट्रीय समाचार, विज्ञान, शिक्षा, दवाइयों, अभिनेताओं, मेलों, त्योहारों, तकनीकों आदि की जानकारी हमें देता है। यह हमारे ज्ञान कौशल और तकनीकी _____ को बढ़ाने में भी हमारी सहायता करता है। पहले के समय में, समाचार पत्रों में केवल खबरों का विवरण प्रकाशित होता था। हालांकि, अब इसमें बहुत से विषयों के बारे में खबरें और विशेषज्ञों के विचार यहाँ तक कि, लगभग सभी विषयों की जानकारी भी निहित होती है। बहुत से समाचार पत्रों की कीमत बाजार में उनकी खबरों के _____ और उस क्षेत्र में प्रसिद्धि के कारण अलग-अलग होती है। समाचार पत्र या अखबार में दैनिक जीवन की सभी वर्तमान घटनाएं नियमित रूप से छपती है।

SubQuestion No : 19

Q.19 यह हमारे ज्ञान, कौशल और तकनीकी _____ को बढ़ाने में भी हमारी सहायता करता है।

- Ans
- 1. माँग
 - 2. बात
 - 3. संख्या
 - 4. जागरूकता

Comprehension:

नीचे दिए गये गद्यांश में कुछ शब्द छोड़ दिये गए हैं, प्रत्येक अनुच्छेद के सामने चार विकल्प दिए गए हैं। इस गद्यांश को ध्यानपूर्वक पढ़ें और चार विकल्पों में से सर्वोत्तम उत्तर वाला विकल्प चुनें।

वर्तमान काल में यदि संसार के किसी भी कोने में कोई भी घटना घटित हो तो उसके अगले दिन हमारे पास उसकी खबर आ जाती है। ऐसा सिर्फ समाचार पत्रों के कारण ही _____ होता है। आज के समय में बिना समाचार पत्र के जीवन की _____ करना भी काफी कठिन है। यह वो पहली और आवश्यक वस्तु है, जिसे सभी हर सुबह सबसे पहले देखते हैं। यह हमें पूरे विश्व में हो रही _____ के बारे में जानकारी देकर वर्तमान समय से जुड़े रखने में हमारी मदद करता है। समाचार पत्र व्यापारियों, राजनितिज्ञों, सामाजिक मुद्दों, बेरोजगारों, खेल, अन्तरराष्ट्रीय समाचार, विज्ञान, शिक्षा, दवाइयों, अभिनेताओं, मेलों, त्योहारों, तकनीकों आदि की जानकारी हमें देता है। यह हमारे ज्ञान कौशल और तकनीकी _____ को बढ़ाने में भी हमारी सहायता करता है। पहले के समय में, समाचार पत्रों में केवल खबरों का विवरण प्रकाशित होता था। हालांकि, अब इसमें बहुत से विषयों के बारे में खबरें और विशेषज्ञों के विचार यहाँ तक कि, लगभग सभी विषयों की जानकारी भी निहित होती है। बहुत से समाचार पत्रों की कीमत बाजार में उनकी खबरों के _____ और उस क्षेत्र में प्रसिद्धि के कारण अलग-अलग होती है। समाचार पत्र या अखबार में दैनिक जीवन की सभी वर्तमान घटनाएं नियमित रूप से छपती है।

SubQuestion No : 20

Q.20 बहुत से समाचार पत्रों की कीमत बाजार में उनकी खबरों के _____ और उस क्षेत्र में प्रसिद्धि के कारण अलग-अलग होती है।

- Ans
- 1. बढ़ाई
 - 2. छपाई
 - 3. गलती
 - 4. विवरण