

54

SET
ASubject Code
20382-GVP-JYLBH-REC-M

Question Booklet No.

परीक्षा केन्द्राध्यक्ष की मोहर
Seal of Superintendent of Examination Centreपरीक्षार्थी द्वारा बॉल-प्वाइंट पेन से भरा जाए
To Be filled in by Candidate by Ball-Point pen only
घोषणा : मैंने नीचे दिये गये निर्देश अच्छी तरह
पढ़कर समझ लिए हैं। Declaration : I have read
and understood the instructions given below.
अनुक्रमांक / Roll No.Paste barcode sticker
containing
question booklet no here
यहां प्रश्न पुस्तिका क्रमांक वाला
बारकोड स्टीकर चिपकाएंवीक्षक के हस्ताक्षर
(Signature of Invigilator) -----
वीक्षक के नाम
(Name of Invigilator) -----

--	--	--	--	--	--	--	--

अभ्यर्थी के हस्ताक्षर

उत्तर शीट का क्रमांक

(Signature of Candidate) -----

Sl. No. of Answer-Sheet

अभ्यर्थी का नाम

--	--	--	--	--	--	--	--

(Name of Candidate) -----

प्रश्न पुस्तिका में पृष्ठों की संख्या

पूर्णांक - 100

प्रश्न पुस्तिका में प्रश्नों की संख्या

Number of Pages in this Question Booklet : 40

समय - 2 घंटे

Number of Questions in this Question Booklet : 100

अभ्यर्थियों के लिए निर्देश

1. प्रश्न-पुस्तिका मिलते ही मुख पृष्ठ एवं अंतिम पृष्ठ में दिए गए निर्देशों को अच्छी तरह पढ़ लें। प्रश्न पुस्तिका में लगी सील को वीक्षक के कहने से पूर्व न खोलें।
2. ऊपर दिए हुए निर्धारित स्थानों में अपना अनुक्रमांक, उत्तर-पुस्तिका का क्रमांक लिखें तथा अपने हस्ताक्षर करें।
3. ओ.एम.आर. उत्तर-शीट में समस्त प्रविष्टियां दिये गये निर्देशानुसार करें अन्यथा उत्तर-शीट का मूल्यांकन नहीं किया जाएगा।
4. इस प्रश्न पुस्तिका के साथ तीन बार कोड स्टीकर दिये जा रहे हैं। इन बार कोडों को प्रश्न पुस्तिका, ओ.एम.आर. शीट एवं उपस्थिति पत्रक में दिये गये निर्धारित बॉक्स के अंदर सावधानीपूर्वक चिपकाये।
5. सील खोलने के बाद सुनिश्चित कर लें कि प्रश्न-पुस्तिका में कुल पृष्ठ ऊपर लिखे अनुसार दिए हुए हैं तथा उसमें सभी 100 प्रश्नों का मुद्रण सही है। किसी भी प्रकार की त्रुटि होने पर 15 मिनट के अंदर वीक्षक को सूचित कर सही प्रश्न-पुस्तिका प्राप्त करें।
6. प्रत्येक प्रश्न हेतु प्रश्न-पुस्तिका में प्रश्न के नीचे दिए गए चार विकल्पों में से सही/सबसे उपयुक्त केवल एक ही विकल्प का चयन कर उत्तर शीट में सही विकल्प वाले गोले को जो उस प्रश्न के सरल क्रमांक से सम्बंधित हो काले या नीले बॉल-प्वाइंट पेन से भरें।
7. सही उत्तर वाले गोले को अच्छी तरह से भरें, अन्यथा उत्तरों का मूल्यांकन नहीं होगा। इसकी समस्त जिम्मेदारी परीक्षार्थी की होगी।
8. प्रश्न-पुस्तिका में 100 वस्तुनिष्ठ प्रश्न दिए गए हैं। प्रत्येक सही उत्तर हेतु 1 अंक आवंटित किया गया है तथा गलत उत्तर अंकित करने पर 1/4 अंक काटे जायेंगे।
9. प्रश्न-पुस्तिका तथा उत्तर-शीट में निर्दिष्ट स्थानों पर प्रविष्टियां भरने के अतिरिक्त कहीं भी कुछ न लिखें। अन्यथा OMR शीट का मूल्यांकन नहीं किया जायेगा।
10. परीक्षा समाप्ति के उपरान्त केवल ओ.एम.आर. उत्तर-शीट एवं प्रश्न पुस्तिका की कब्र पेज वीक्षक को सौंपनी है। उत्तर-शीट की कार्बन कॉपी तथा प्रश्न-पुस्तिका परीक्षार्थी अपने साथ ले जा सकते हैं।
11. इस प्रश्न पुस्तिका में निम्न भाग होंगे :-

भाग	विवरण	कुल प्रश्न	अंक
भाग-1	महिला एवं बाल विकास विभाग से सम्बंधित योजनाएं एवं कार्यक्रम	20	20
भाग-2	सामान्य मानसिक योग्यता एवं सामान्य ज्ञान	40	40
भाग-3	सामान्य हिन्दी एवं छत्तीसगढ़ी भाषा का सामान्य ज्ञान	15	15
भाग-4	सामान्य अंग्रेजी	10	10
भाग-5	सामान्य गणित	15	15

12. यदि हिन्दी / अंग्रेजी भाषा में कोई संदेह है तो अंग्रेजी भाषा को ही प्रामाणिक माना जायेगा।

INSTRUCTION TO CANDIDATES

1. Immediately after getting the booklet read instructions carefully, mentioned on the front and back page of the question booklet and do not open the seal given on the question booklet, unless asked by the invigilator.
2. Write your Roll No., Answer Sheet No., in the specified places given above and put your signature.
3. Make all entries in the OMR Answer Sheet as per the given instructions otherwise Answer-Sheet will not be evaluated.
4. Paste sticker of bar code provided with this question booklet carefully at the space provided at this question booklet, OMR sheet and attendance sheet.
5. After Opening the seal, ensure that the Question booklet contains total no. of pages as mentioned above and printing of all the 100 questions is proper. If any discrepancy is found, inform the invigilator within 15 minutes and get the correct booklet.
6. While answering the question from the question Booklet, for each question choose the correct/most appropriate option out of four options given, as answer and darken the circle provided against that option in the OMR Answer sheet, bearing the same serial number of the question. Darken the circle only with Black or Blue ball point pen.
7. Darken the circle of correct answer properly otherwise answers will not be evaluated. The candidate will be fully responsible for it.
8. There are 100 objective type questions in this question booklet. 1 mark is allotted for each correct answer and 1/4 mark will be deducted for each wrong answer.
9. Do not write anything anywhere in the Question booklet and the Answer-Sheet except making entries in the specified places otherwise OMR sheet will not be evaluated.
10. After completion of the examination, only OMR Answer Sheet and cover page of question booklet is to be handed over to the invigilator. Carbon copy of the Answer-Sheet and Question Booklet may be taken away by the examinee.
11. This question paper consists of following parts namely :-

Part	Particular	Total Ques.	Marks
Part-1	Women and Child Development Department Related Schemes and Programmes	20	20
Part-2	General Mental Aptitude & General Knowledge	40	40
Part-3	General Hindi & Chhattisgarhi Language of General Knowledge	15	15
Part-4	General English	10	10
Part-5	General Mathematics	15	15

12. In case of any ambiguity in Hindi / English version the English version shall be considered authentic.

SPACE FOR ROUGH WORK / रफ कार्य के लिये जगह

SPACE FOR ROUGH WORK / रफ कार्य के लिये जगह

--	--

PART - I

Women and Child Development Department Related Schemes and Programmes

महिला एवं बाल विकास विभाग से सम्बन्धित योजनाएँ एवं कार्यक्रम

1. The cost norm for supplementary nutrition for severely malnourished children in *Poshan 2.0* is-
- A. Rs. 8/- per beneficiary per day
- B. Rs. 12/- per beneficiary per day
- C. Rs. 9.5/- per beneficiary per day
- D. Rs. 10/- per beneficiary per day

2. The disease which is caused by protein energy malnutrition-
- A. Tuberculosis
- B. Marasmus
- C. Goiter
- D. Angina

1. पोषण 2.0 अंतर्गत गंभीर कुपोषित बच्चों के पूरक पोषण आहार के वित्तीय मापदण्ड हैं-
- A. 8 रु. प्रति हितग्राही प्रति दिन
- B. 12 रु. प्रति हितग्राही प्रति दिन
- C. 9.5 रु. प्रति हितग्राही प्रति दिन
- D. 10 रु. प्रति हितग्राही प्रति दिन
2. प्रोटीन एनर्जी कुपोषण के कारण कौन सी बिमारी होती है?
- A. ट्यूबरकुलोसिस
- B. मरास्मस
- C. गॉइटर
- D. एनजाइना

SPACE FOR ROUGH WORK / रफ कार्य के लिये जगह

3. The prevalence of malnutrition in Chhattisgarh according to National Family Health Survey-5 is-

- A. 37.7%
- B. 32.1%
- C. 31.3%
- D. 35.8%

4. In how many districts of Chhattisgarh one stop centre is functional?

- A. 33
- B. 28
- C. 27
- D. 25

5. The population norm for opening of an *Anganwadi* centre in tribal/hilly area is-

- A. 400-800 population for one *Anganwadi* centre
- B. 300-800 population for one *Anganwadi* centre
- C. 400-700 population for one *Anganwadi* centre
- D. 300-600 population for one *Anganwadi* centre

3. राष्ट्रीय परिवार स्वास्थ्य सर्वे-5 के अनुसार छत्तीसगढ़ में कुपोषण की दर है-

- A. 37.7%
- B. 32.1%
- C. 31.3%
- D. 35.8%

4. छत्तीसगढ़ के कितने जिलों में वन स्टॉप सेंटर संचालित हैं?

- A. 33
- B. 28
- C. 27
- D. 25

5. आदिवासी/पहाड़ी क्षेत्रों में आंगनबाड़ी केन्द्र खोलने के जनसंख्या के मापदण्ड हैं-

- A. 400-800 की जनसंख्या 1 आंगनबाड़ी केन्द्र के लिए
- B. 300-800 की जनसंख्या 1 आंगनबाड़ी केन्द्र के लिए
- C. 400-700 की जनसंख्या 1 आंगनबाड़ी केन्द्र के लिए
- D. 300-600 की जनसंख्या 1 आंगनबाड़ी केन्द्र के लिए

SPACE FOR ROUGH WORK / रफ कार्य के लिये जगह



6. In Chhattisgarh State the expenditure norm under *Mukhya Mantri Kanya Vivah* scheme is-

- A. Rs. 25,000/- per girl
- B. Rs. 50,000/- per girl
- C. Rs. 40,000/- per girl
- D. Rs. 30,000/- per girl

7. Which provision of the Chhattisgarh *Tonahi Pratadna Nivaran Act, 2005* prescribes about the order for compensation to the victim?

- A. Section 10
- B. Section 11
- C. Section 12
- D. Section 13

8. According to 2011 census data, Child Sex Ratio in Chhattisgarh State is-

- A. 975
- B. 964
- C. 943
- D. 956

6. छत्तीसगढ़ राज्य की मुख्यमंत्री कन्या विवाह में व्यय मापदण्ड हैं-

- A. ₹. 25,000/- प्रति कन्या
- B. ₹. 50,000/- प्रति कन्या
- C. ₹. 40,000/- प्रति कन्या
- D. ₹. 30,000/- प्रति कन्या

7. छत्तीसगढ़ टोनही उत्पीड़न निवारण अधिनियम, 2005 का कौन सा प्रावधान पीड़ित को मुआवजा देने के आदेश के बारे में बताता है?

- A. धारा 10
- B. धारा 11
- C. धारा 12
- D. धारा 13

8. 2011 की जनसंख्या के आंकड़ों के अनुसार छत्तीसगढ़ राज्य में बाल लिंगानुपात है-

- A. 975
- B. 964
- C. 943
- D. 956

SPACE FOR ROUGH WORK / रफ कार्य के लिये जगह



9. Which one of the following statement about “*Mission Shakti*” is correct?
- A. The component of “*Samarthya*” consists of One Stop Centre, *Pradhan Mantri Matru Vandana Yojana*, Women Help Line
- B. The component of “*Sambal*” consists of One Stop Centre, *Beti Bachao Beti Padhao*, *Nari Adalat*
- C. The component of “*Samarthya*” consist of *Pradhan Mantri Matru Vandana Yojana*, *Beti Bachao Beti Padhao*, *Nari Adalat*
- D. None of the above

10. The only year in which malnutrition increased from the previous year as per data of *Vajan Tyohar* is-
- A. 2013-14
- B. 2014-15
- C. 2015-16
- D. 2016-17

9. “मिशन शक्ति” के संबंध में निम्न में से कौन सा कथन सही है?
- A. वन स्टॉप सेन्टर, प्रधानमंत्री मातृ वंदना योजना, महिला हेल्प लाईन “सामर्थ्य” के घटक हैं
- B. वन स्टॉप सेन्टर, बेटी बचाओ बेटी पढ़ाओ, नारी अदालत “संबल” के घटक हैं
- C. प्रधानमंत्री मातृ वंदना योजना, बेटी बचाओ बेटी पढ़ाओ, नारी अदालत “सामर्थ्य” के घटक हैं
- D. उपरोक्त में से कोई नहीं

10. वह एकमात्र वर्ष जिसमें वजन त्योहार के आंकड़ों के अनुसार पिछले वर्ष की तुलना में कुपोषण दर में वृद्धि हुई है-
- A. 2013-14
- B. 2014-15
- C. 2015-16
- D. 2016-17

SPACE FOR ROUGH WORK / रफ कार्य के लिये जगह

11. The amount of gratuity paid to *Anganwadi* worker at retirement in Chhattisgarh is-

- A. Rs. 25,000/-
- B. Rs. 1,00,000/-
- C. Rs. 50,000/-
- D. Rs. 40,000/-

12. Which of the following districts does not have observation home for girls?

- A. Rajnandgaon
- B. Ambikapur
- C. Jagdalpur
- D. Raipur

13. Under “*Pradhan Mantri Matru Vandana Yojana*”, the cash incentive given to mothers on birth of second girl child is-

- A. Rs. 6000/- in a single instalment
- B. Rs. 5000/- in two instalments
- C. Rs. 5000/- in a single instalment
- D. Rs. 6000/- in two instalments

11. छत्तीसगढ़ राज्य में आँगनबाड़ी कार्यकर्ताओं की सेवानिवृत्ति पर देय उपादान की राशि है-

- A. ₹. 25,000/-
- B. ₹. 1,00,000/-
- C. ₹. 50,000/-
- D. ₹. 40,000/-

12. इनमें से किस जिले में लड़कियों के लिए संप्रेक्षण गृह नहीं है?

- A. राजनांदगाँव
- B. अंबिकापुर
- C. जगदलपुर
- D. रायपुर

13. “प्रधानमंत्री मातृ वंदना योजना” अंतर्गत द्वितीय बालिका के जन्म पर माताओं को दी जाने वाली प्रोत्साहन राशि है-

- A. एक किस्त में ₹. 6000/-
- B. दो किस्तों में ₹. 5000/-
- C. एक किस्त में ₹. 5000/-
- D. दो किस्तों में ₹. 6000/-

SPACE FOR ROUGH WORK / रफ कार्य के लिये जगह

14. Deficiency of which of the following nutrients can lead to anaemia?

- A. Iodine
- B. Iron
- C. Protein
- D. Vitamin D

15. *Noni Suraksha Yojana* was started from-

- A. 1. 4. 2014
- B. 1. 4. 2015
- C. 1. 1. 2014
- D. 1. 1. 2015

16. Which provision of the Juvenile Justice (Care and Protection of Children) Act, 2015 deals with '*Foster Care*'?

- A. Section 43
- B. Section 44
- C. Section 45
- D. Section 46

14. निम्नलिखित में से किस पोषक तत्व की कमी से एनीमिया होता है?

- A. आयोडीन
- B. आयरन
- C. प्रोटीन
- D. विटामिन – डी


15. नोनी सुरक्षा योजना प्रारंभ हुई-

- A. 1. 4. 2014 से
- B. 1. 4. 2015 से
- C. 1. 1. 2014 से
- D. 1. 1. 2015 से

16. किशोर न्याय (बालकों की देखभाल और संरक्षण) अधिनियम, 2015 का कौन सा प्रावधान 'पोषण देखरेख' से संबंधित है?

- A. धारा 43
- B. धारा 44
- C. धारा 45
- D. धारा 46

SPACE FOR ROUGH WORK / रफ कार्य के लिये जगह



17. Which of the following is not a key component of *Poshan Abhiyan*?

- A. Community based events organisation
- B. *Jan Andolan*
- C. Convergence among different departments
- D. Distribution of supplementary nutrition

18. The revised cost of *Anganwadi* building construction which has been fixed by the Central Government is-

- A. Rs. 10 lakh per *Anganwadi Bhavan*
- B. Rs. 9.5 lakh per *Anganwadi Bhavan*
- C. Rs. 12 lakh per *Anganwadi Bhavan*
- D. Rs. 11 lakh per *Anganwadi Bhavan*

17. निम्न में से पोषण अभियान का मुख्य घटक नहीं है-

- A. समुदाय आधारित गतिविधियों का आयोजन
- B. जन आंदोलन
- C. विभिन्न विभागों के मध्य अभिसरण
- D. पूरक पोषण आहार का वितरण

18. केन्द्र सरकार द्वारा आँगनबाड़ी भवन निर्माण हेतू निर्धारित की गई संशोधित लागत है-

- A. रु. 10 लाख प्रति आँगनबाड़ी भवन
- B. रु. 9.5 लाख प्रति आँगनबाड़ी भवन
- C. रु. 12 लाख प्रति आँगनबाड़ी भवन
- D. रु. 11 लाख प्रति आँगनबाड़ी भवन

SPACE FOR ROUGH WORK / रफ कार्य के लिये जगह

19. “Mukhyamantri Suposhan Yojana” in Chhattisgarh State was launched on-

- A. Oct. 02, 2020
- B. Oct. 02, 2021
- C. Aug. 15, 2020
- D. Aug. 15, 2021

20. Which district among the following districts has the highest number of *Anganwadi* centre sanctioned?

- A. Rajnandgaon
- B. Mahasamund
- C. Kabirdham
- D. Durg

19. छत्तीसगढ़ राज्य में “मुख्यमंत्री सुपोषण योजना” की शुरुआत हुई-

- A. 2 अक्टूबर 2020 को
- B. 2 अक्टूबर 2021 को
- C. 15 अगस्त 2020 को
- D. 15 अगस्त 2021 को

20. निम्न में से किस जिले में स्वीकृत आँगनवाड़ी केन्द्रों की संख्या अधिकतम है?

- A. राजनांदगाँव
- B. महासमुंद
- C. कबीरधाम
- D. दुर्ग

SPACE FOR ROUGH WORK / रफ कार्य के लिये जगह

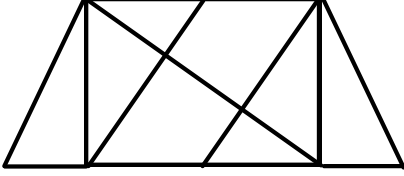


PART - II

**General Mental Aptitude
& General Knowledge**

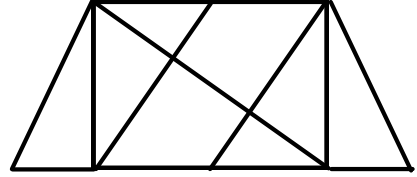
**सामान्य मानसिक योग्यता
एवं सामान्य ज्ञान**

21. Find the number of triangles in the given figure.



- A. 8
B. 10
C. 12
D. 14

21. दी गई आकृति में त्रिभुजों की संख्या ज्ञात कीजिए।



- A. 8
B. 10
C. 12
D. 14


22. Who was the founder of *Satnam Panth* in Chhattisgarh?

- A. Sundarlal Sharma
B. Thakur Pyarelal
C. Sant Guru Ghasidas Ji
D. Vamanrao Lakhe

22. छत्तीसगढ़ में सतनाम पंथ के संस्थापक कौन थे?

- A. सुन्दर लाल शर्मा
B. ठाकुर प्यारेलाल
C. गुरु घासी दास जी
D. वामनराव लाखे

SPACE FOR ROUGH WORK / रफ कार्य के लिये जगह



23. In the following letter series, some of the letters are missing which are given in that order as one of the alternatives below it. Choose the correct alternative.

adb __ ac__ da __ cddcb__ dbc __ cbda.

- A. cbbaa
- B. bccba
- C. ccbba
- D. bbcad

24. The ozone layer absorbs -----

- A. Infrared Radiations
- B. X-Rays
- C. Gamma Rays
- D. Ultraviolet Rays

25. Which campaign was launched during the civil war in Sudan to evacuate the Indian community?

- A. Operation *Kaveri*
- B. Operation *Narmada*
- C. Operation *Ganga*
- D. Operation *Krishna*

23. निम्नलिखित अक्षर श्रृंखला में, कुछ अक्षर गायब हैं जो नीचे दिए गए विकल्पों में से एक के रूप में उसी क्रम में दिए गए हैं। सही विकल्प का चयन करें।

adb __ ac__ da __ cddcb__ dbc __ cbda.

- A. cbbaa
- B. bccba
- C. ccbba
- D. bbcad

24. ओजोन परत ----- को अवशोषित करती है।

- A. इन्फ्रारेड विकिरण
- B. एक्स-रे
- C. गामा किरणें
- D. पराबैंगनी किरण

25. सुडान में गृहयुद्ध के दौरान भारतीय समुदाय के लोगों को बाहर निकालने हेतु कौन सा अभियान चलाया गया था?

- A. ऑपरेशन कावेरी
- B. ऑपरेशन नर्मदा
- C. ऑपरेशन गंगा
- D. ऑपरेशन कृष्णा

SPACE FOR ROUGH WORK / रफ कार्य के लिये जगह

26. Manuscripts of Ashok is in which Language?

- A. Pali
- B. Prakrit
- C. Sanskrit
- D. Hindi

27. Arrange the words given below in a meaningful sequence.

1. Family, 2. Community,
3. Member, 4. Locality, 5. Country

- A. 3, 1, 2, 4, 5
- B. 3, 1, 2, 5, 4
- C. 3, 1, 4, 2, 5
- D. 3, 1, 4, 5, 2

28. Where will the 18th summit of 'G-20' be held?

- A. Indonesia
- B. India
- C. Brazil
- D. Canada

26. अशोक के अभिलेख किस भाषा में है?

- A. पाली
- B. प्राकृत
- C. संस्कृत
- D. हिन्दी

27. नीचे दिए गए शब्दों को सार्थक क्रम में व्यवस्थित करें।


1. परिवार, 2. समुदाय, 3. सदस्य,
4. मोहल्ला, 5. देश

- A. 3, 1, 2, 4, 5
- B. 3, 1, 2, 5, 4
- C. 3, 1, 4, 2, 5
- D. 3, 1, 4, 5, 2

28. 'जी-20' का 18 वां शिखर सम्मेलन कहाँ होगा?

- A. इण्डोनेशिया
- B. भारत
- C. ब्राजील
- D. कनाडा

SPACE FOR ROUGH WORK / रफ कार्य के लिये जगह



29. In each of the following questions, various terms of an alphabet series are given with one or more terms missing as shown by (?). Choose the missing terms out of the given alternatives.

Z, S, W, O, T, K, Q, G, ?, ?

- A. N, C
B. N, D
C. O, C
D. O, D

30. Woolen clothes keep the body warm because -----

- A. Wool absorbs radiant heat from outer objects
B. Wool is the bad conductor of the heat so it does not allow heat to flow out and keep it absorbed
C. Wool rejects heat from outer objects
D. Wool increases the temperature of the body

29. निम्नलिखित प्रत्येक प्रश्न में, वर्णमाला श्रृंखला के विभिन्न पद दिए गए हैं जिनमें एक या अधिक पद लुप्त हैं जैसा कि (?) द्वारा दर्शाया गया है। दिए गए विकल्पों में से लुप्त पद चुनिए।


Z, S, W, O, T, K, Q, G, ?, ?

- A. N, C
B. N, D
C. O, C
D. O, D

30. ऊनी कपड़े शरीर को गर्म रखते हैं क्योंकि -----

- A. ऊन बाहरी वस्तुओं से दीर्घमान ऊष्मा को अवशोषित करता है
B. ऊन ऊष्मा का कुचालक है इसलिए यह ऊष्मा को बाहर नहीं जाने देता और उसे अवशोषित रखता है
C. ऊन बाहरी वस्तुओं से गर्मी को अस्वीकार करता है
D. ऊन शरीर का तापमान बढ़ाता है

SPACE FOR ROUGH WORK / रफ कार्य के लिये जगह



31. Select the number that can replace the question mark (?) in the following series.

5, 10, 26, ?, 122, 170

- A. 82
- B. 50
- C. 65
- D. 77

32. Arrange the words given below in a meaningful sequence.

1. Key, 2. Door, 3. Lock, 4. Room, 5. Switch on

- A. 5, 1, 2, 4, 3
- B. 4, 2, 1, 5, 3
- C. 1, 3, 2, 4, 5
- D. 1, 2, 3, 5, 4

33. Who will declare that a member of Lok Sabha has become unsound mind?

- A. President
- B. President with the advice of Election Commission
- C. Presiding Officer of the House
- D. Competent Court

31. उस संख्या का चयन करें जो निम्नलिखित श्रृंखला में प्रश्न चिन्ह (?) को प्रतिस्थापित कर सकती है।

5, 10, 26, ?, 122, 170

- A. 82
- B. 50
- C. 65
- D. 77

32. नीचे दिए गए शब्दों को सार्थक क्रम में व्यवस्थित करें।

1. चाबी, 2. दरवाजा, 3. ताला, 4. कमरा, 5. स्विच ऑन

- A. 5, 1, 2, 4, 3
- B. 4, 2, 1, 5, 3
- C. 1, 3, 2, 4, 5
- D. 1, 2, 3, 5, 4

33. कौन घोषित करेगा कि लोकसभा का एक सदस्य विकृत चित्त का हो गया है?

- A. राष्ट्रपति
- B. निर्वाचन आयोग के परामर्श पर राष्ट्रपति
- C. सदन का पीठासीन अधिकारी
- D. सक्षम न्यायालय

SPACE FOR ROUGH WORK / रफ कार्य के लिये जगह

34. Who gets credit for invention of the internet?

- A. Robert E. Kahn and Vinton Gray Cerf
- B. Philip Diehl
- C. William Sturgeon
- D. Frederick Banting

35. The award given by the Government of Chhattisgarh as a result of outstanding achievements in the junior category is-

- A. *Shaheed Kaushal Yadav* Award
- B. *Ekalavya* Award
- C. *Shaheed Pankaj Vikram* Award
- D. None of these

36. Who is popular as the Iron Man in India?

- A. Lokmanya Balgangadhar Tilak
- B. Rajguru
- C. Sukhdev
- D. Sardar Vallabhbhai Patel

34. इंटरनेट के अविष्कार का श्रेय किसे जाता है?

- A. रॉबर्ट ई. काहन और विंटन ग्रे सर्फ
- B. फिलिप डाइहल
- C. विलियम स्टर्जन
- D. फ्रेडरिक बैंटिंग

35. छत्तीसगढ़ सरकार द्वारा जूनियर वर्ग में उत्कृष्ट उपलब्धियों के फलस्वरूप दी जाने वाली पुरस्कार है-

- A. शहीद कौशल यादव पुरस्कार
- B. एकलव्य पुरस्कार
- C. शहीद पंकज विक्रम पुरस्कार
- D. इनमें से कोई नहीं

36. भारत में लौहपुरुष के नाम से प्रसिद्ध हैं-

- A. लोकमान्य बालगंगाधर तिलक
- B. राजगुरु
- C. सुखदेव
- D. सरदार वल्लभभाई पटेल

SPACE FOR ROUGH WORK / रफ कार्य के लिये जगह

37. Which sector provides largest employment in India?

- A. Agriculture
- B. Industry
- C. Services
- D. Manufacturing

38. What is correct about the Attorney General of India?

- (i) He can take part in the proceedings of Lok Sabha and Rajya Sabha.
- (ii) He can take part in the proceedings of joint sitting of both houses of Parliament.

- A. (i) is correct
- B. (ii) is correct
- C. (i) and (ii) both are correct
- D. (i) and (ii) both are wrong

39. How many goals are fixed for Sustainable Development Goals?

- A. 15
- B. 16
- C. 17
- D. 18

37. भारत में कौन सा क्षेत्र सबसे अधिक रोजगार प्रदान करता है?

- A. कृषि
- B. उद्योग
- C. सेवाएं
- D. विनिर्माण

38. भारत के महान्यायवादी के विषय में सही क्या है?


- (i) वह लोकसभा और राज्यसभा की कार्यवाहियों में भाग ले सकता है।
- (ii) वह संसद के दोनों सदनों की संयुक्त बैठक में भाग ले सकता है।

- A. (i) सही है
- B. (ii) सही है
- C. (i) और (ii) दोनों सही है
- D. (i) और (ii) दोनों गलत हैं

39. सतत् विकास लक्ष्य के लिए कितने लक्ष्य निर्धारित किए गये हैं?

- A. 15
- B. 16
- C. 17
- D. 18

SPACE FOR ROUGH WORK / रफ कार्य के लिये जगह



40. Which statement is false regarding 'Chhattisgarhia Olympics 2023-24'?

- A. It started with *Hareli* festival
- B. There will be 16 types of sports
- C. It will be organized at six levels across the state
- D. Urban Administration and Development Department will be responsible for organizing events in rural areas

41. Following are some words translated from a code language.

moolokarn means blue sky

wilkospadi means bicycle race

moolowilko means blue bicycle

Which word could mean "racecar"?

- A. wilkozwet
- B. spadiwilko
- C. moolobreil
- D. spadivolo

40. 'छत्तीसगढ़िया ओलम्पिक 2023-24' के संबंध में निम्न में से कौन सा कथन असत्य है?

- A. इसका शुभारंभ हरेली त्यौहार से
- B. इसमें 16 प्रकार के खेल होंगे
- C. प्रदेश भर में छः स्तरों पर इसका आयोजन
- D. आयोजन का दायित्व ग्रामीण क्षेत्रों में नगरीय प्रशासन एवं विकास विभाग का होगा

41. एक कूट भाषा से अनुवादित कुछ शब्द निम्नलिखित हैं।

moolokarn का अर्थ है blue sky


wilkospadi का अर्थ है bicycle race

moolowilko का अर्थ है blue bicycle

किस शब्द का अर्थ "racecar" हो सकता है?

- A. wilkozwet
- B. spadiwilko
- C. moolobreil
- D. spadivolo

SPACE FOR ROUGH WORK / रफ कार्य के लिये जगह



42. Which statement is false regarding “Unemployment Allowance Scheme 2023” in Chhattisgarh?

- A. Rs. 2500/- unemployment allowance per month
- B. Minimum educational qualification 12th Pass
- C. Registration in employment office 3 years ago as on 1st April
- D. Annual income should not be more than 2,50,000/- rupees

43. Who was the Mughal Emperor at the time of the revolt of 1857?

- A. Babar
- B. Bahadur Shah Zafar
- C. Shahjahan
- D. Akbar

44. The main source of energy in Sun is -----

- A. Nuclear Fusion
- B. Nuclear Fission
- C. Chemical Reaction
- D. Both Nuclear Fusion and Fission

42. छत्तीसगढ़ में ‘बेरोजगारी भत्ता योजना 2023’ के संबंध में कौन सा कथन असत्य है?

- A. प्रतिमाह 2500/- रु. बेरोजगारी भत्ता
- B. न्यूनतम शैक्षणिक योग्यता बारहवीं पास
- C. 1 अप्रैल को रोजगार कार्यालय में 3 वर्ष पहले का पंजीयन
- D. वार्षिक आय रुपये 2,50,000/- से अधिक न हो


43. 1857 के विद्रोह के समय मुगल शासक कौन थे?

- A. बाबर
- B. बहादुर शाह ज़फर
- C. शाहजहां
- D. अकबर

44. सूर्य में ऊर्जा का मुख्य स्रोत ----- है।

- A. परमाणु संलयन
- B. परमाणु विखंडन
- C. रासायनिक प्रतिक्रिया
- D. परमाणु संलयन और विखंडन दोनों

SPACE FOR ROUGH WORK / रफ कार्य के लिये जगह



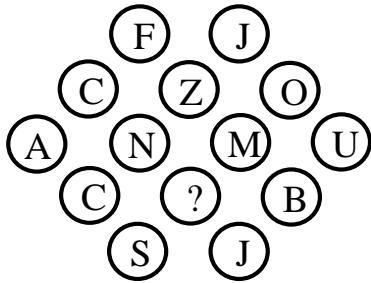
45. Where is *Chakradhar Samaroh* organised?

- A. Raigarh
- B. Kabirdham
- C. Narayanpur
- D. Balrampur

45. चक्रधर समारोह कहां आयोजित होता है?

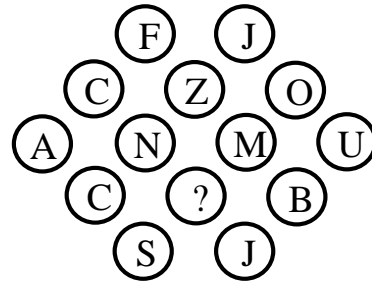
- A. रायगढ़
- B. कबीरधाम
- C. नारायणपुर
- D. बलरामपुर

46. Which letter will replace the question mark in the following figure?




- A. P
- B. A
- C. N
- D. K

46. निम्नलिखित आकृति में प्रश्न चिन्ह के स्थान पर कौन सा अक्षर आएगा?



- A. P
- B. A
- C. N
- D. K

SPACE FOR ROUGH WORK / रफ कार्य के लिये जगह



47. If $A + B$ means A is the mother of B; $A - B$ means A is the brother B; $A \% B$ means A is the father of B and $A \times B$ means A is the sister of B, which of the following shows that P is the maternal uncle of Q?

- A. $Q - N + M \times P$
- B. $P + S \times N - Q$
- C. $P - M + N \times Q$
- D. $Q - S \% P$

48. What is correct about the resignation addressed to-

- (i) Speaker will address to Deputy Speaker.
- (ii) Deputy Speaker will address to Speaker.
- (iii) Chairman of Rajya Sabha will address to Deputy Chairman.
- (iv) Deputy Chairman of Rajya Sabha will address to Chairman.

- A. (i), (ii), (iii)
- B. (ii), (iii), (iv)
- C. (iii), (iv), (i)
- D. (iv), (i), (ii)

47. यदि $A + B$ का अर्थ है A, B की माँ है; $A - B$ का अर्थ है A, B का भाई है; $A \% B$ का अर्थ है कि A, B का पिता है और $A \times B$ का अर्थ है कि A, B की बहन है, निम्नलिखित में से कौन सा दर्शाता है कि P, Q का मामा है?

- A. $Q - N + M \times P$
- B. $P + S \times N - Q$
- C. $P - M + N \times Q$
- D. $Q - S \% P$

48. त्यागपत्र सम्बोधित करने के विषय में सही क्या है-

- (i) स्पीकर, डिप्टी स्पीकर को सम्बोधित करेगा।
- (ii) डिप्टी स्पीकर, स्पीकर को सम्बोधित करेगा।
- (iii) राज्यसभा का सभापति, उपसभापति को सम्बोधित करेगा।
- (iv) राज्यसभा का उपसभापति, सभापति को सम्बोधित करेगा।

- A. (i), (ii), (iii)
- B. (ii), (iii), (iv)
- C. (iii), (iv), (i)
- D. (iv), (i), (ii)

SPACE FOR ROUGH WORK / रफ कार्य के लिये जगह

49. Origin of *Mahanadi* is-

- A. Rajim
- B. Sihawa
- C. Palari
- D. Chandrapur

50. In each of the following questions, various terms of an alphabet series are given with one or more terms missing as shown by (?). Choose the missing terms out of the given alternatives.

ACEGI, JLNPR, SUWYA, ?,
KMOQS

- A. LBGI
- B. ADIFH
- C. YWXAC
- D. BDFHJ

49. महानदी का उदगम स्थल है-


- A. राजिम
- B. सिहावा
- C. पलारी
- D. चन्द्रपुर

50. निम्नलिखित प्रत्येक प्रश्न में, वर्णमाला श्रृंखला के विभिन्न पद दिए गए हैं जिनमें एक या अधिक पद लुप्त हैं जैसा कि (?) द्वारा दर्शाया गया है। दिए गए विकल्पों में से लुप्त पद चुनिए।

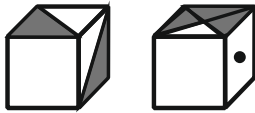
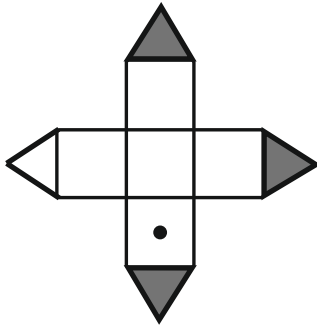
ACEGI, JLNPR, SUWYA, ?,
KMOQS

- A. LBGI
- B. ADIFH
- C. YWXAC
- D. BDFHJ

SPACE FOR ROUGH WORK / रफ कार्य के लिये जगह

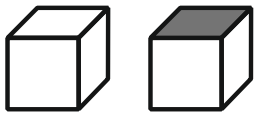


51. The figure given on the left hand side in each of the following questions is folded to form a box. Choose from the alternatives (1), (2), (3) and (4) the boxes that is similar to the box formed.



(1)

(2)

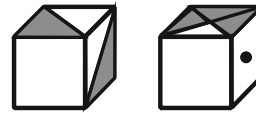
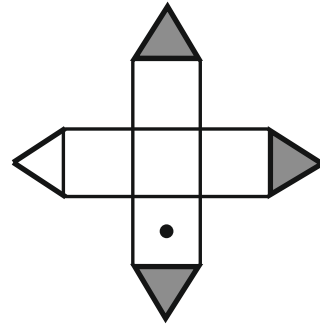


(3)

(4)

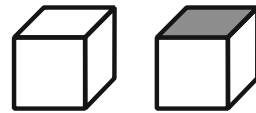
- A. 2 only
 B. 2 and 4 only
 C. 2 and 3 only
 D. 1 and 2 only

51. नीचे बाईं ओर दी गई आकृति को एक बॉक्स बनाने के लिए मोड़ा गया है। विकल्पों (1), (2), (3) और (4) में से वह बॉक्स चुनें जो बने बॉक्स के समान हो।



(1)

(2)



(3)

(4)

- A. केवल 2
 B. केवल 2 और 4
 C. केवल 2 और 3
 D. केवल 1 और 2

SPACE FOR ROUGH WORK / रफ कार्य के लिये जगह

52. Which sector is not included in secondary sector of Indian Economy?

- A. Manufacturing
- B. Electricity, Gas and Water supply
- C. Construction
- D. Mining and Quarry

53. With which two states is the 'Namsai Declaration' related?

- A. Assam, Arunachal Pradesh
- B. West Bengal, Tripura
- C. Manipur, Nagaland
- D. Sikkim, Assam

54. Which is the Chhattisgarh state's first FIFA (Federation International de Football Association) accredited synthetic football ground with running track stadium?

- A. Shaheed Veer Narayan Singh Stadium, Raipur
- B. Digvijay Stadium, Rajnandgaon
- C. Sersa Stadium, Bilaspur
- D. Indira Priyadarshini Stadium, Jagdalpur, Chhattisgarh

52. भारतीय अर्थव्यवस्था के द्वितीयक क्षेत्र में कौन सा सेक्टर शामिल नहीं है?

- A. विनिर्माण
- B. विद्युत, गैस, जल आपूर्ति
- C. निर्माण
- D. खनन एवं उत्खनन

53. 'नामसाई घोषणा' का संबंध किन दो राज्यों से है?

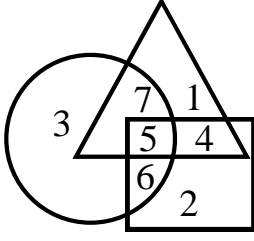
- A. असम, अरुणाचल प्रदेश
- B. पं. बंगाल, त्रिपुरा
- C. मणीपुर, नागालैण्ड
- D. सिक्किम, असम

54. छत्तीसगढ़ प्रदेश का पहला फीफा (फेडरेशन इंटरनेशनल डी फुटबॉल एसोसिएशन) से मान्यता प्राप्त सिंथेटिक फुटबॉल ग्राउंड विथ रनिंग ट्रैक स्टेडियम कौन सा है?

- A. शहीद वीर नारायण सिंह स्टेडियम, रायपुर
- B. दिग्विजय स्टेडियम, राजनांदगाव
- C. सेरसा स्टेडियम, बिलासपुर
- D. इंदिरा प्रियदर्शिनी स्टेडियम, जगदलपुर, छत्तीसगढ़

SPACE FOR ROUGH WORK / रफ कार्य के लिये जगह

55. Study the following figure and answer the questions given below

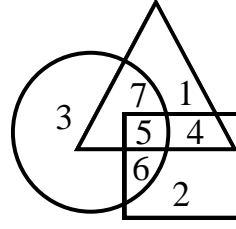


- → Trained nurses
 ○ → Married population
 △ → Nurses in hospital

By which number, the trained unmarried nurses in the hospital are represented?

- A. 6
 B. 5
 C. 7
 D. 4

55. निम्नलिखित आकृति का अध्ययन करें और नीचे दिए गए प्रश्नों के उत्तर दें



- → प्रशिक्षित नर्सों
 ○ → विवाहित जनसंख्या
 △ → अस्पताल में नर्सों

अस्पताल में प्रशिक्षित अविवाहित नर्सों को किस संख्या से दर्शाया जाता है?

- A. 6
 B. 5
 C. 7
 D. 4

56. In which temple of Chhattisgarh construction of temple corridor is in progress?

- A. Danteshwari Temple, Dantewada
 B. Mahamaya Temple, Ratanpur
 C. Maa Bamleshwari Temple, Dongargarh
 D. Mahamaya Temple, Raipur

56. छत्तीसगढ़ के किस मंदिर में मंदिर कॉरीडोर बनाने का कार्य चल रहा है?

- A. दंतेश्वरी मंदिर, दंतेवाड़ा
 B. महामाया मंदिर, रतनपुर
 C. माँ बमलेश्वरी मंदिर, डोंगरगढ़
 D. महामाया मंदिर, रायपुर

SPACE FOR ROUGH WORK / रफ कार्य के लिये जगह

57. Which five year plan is running in India at present?

- A. 11th
- B. 12th
- C. 13th
- D. None of these

58. In which article of the constitution the right to move the Supreme Court for the enforcement of fundamental Rights is guaranteed?

- A. Article 13
- B. Article 32
- C. Article 14
- D. Article 21

59. Vir Narayan Singh was the *Zamindar* of which place?

- A. Kanker
- B. Khairagarh
- C. Ratanpur
- D. Sonakhan

57. वर्तमान में, भारत में कौन सी पंचवर्षीय योजना चल रही है?

- A. ग्यारहवीं
- B. बारहवीं
- C. तेरहवीं
- D. इनमें से कोई नहीं

58. संविधान के किस अनुच्छेद में मौलिक अधिकारों को प्रवर्तित कराने के लिए सर्वोच्च न्यायालय में समावेदन करने का अधिकार प्रत्याभूत किया गया है?

- A. अनुच्छेद 13
- B. अनुच्छेद 32
- C. अनुच्छेद 14
- D. अनुच्छेद 21

59. वीर नारायण सिंह कहां के जमींदार थे?

- A. कांकेर
- B. खैरागढ़
- C. रतनपुर
- D. सोनाखान

SPACE FOR ROUGH WORK / रफ कार्य के लिये जगह


60. How many National Parks are there in Chhattisgarh at present?

- A. Three
- B. Two
- C. Five
- D. None of them

60. वर्तमान में छत्तीसगढ़ में कितने राष्ट्रीय उद्यान हैं?

- A. तीन
- B. दो
- C. पांच
- D. इनमें से कोई नहीं

SPACE FOR ROUGH WORK / रफ कार्य के लिये जगह



PART - III

**General Hindi &
Chhattisgarhi Language of
General Knowledge**

**सामान्य हिन्दी एवं
छत्तीसगढ़ी भाषा का सामान्य ज्ञान**

61. वह शब्दांश जो किसी शब्द के पहले आकर उसका विशेष अर्थ प्रकट करता है, उसे कहते हैं-

- A. प्रत्यय
- B. उपसर्ग
- C. संकर
- D. विशेषण

62. 'आँखो के सामने' के लिए एक शब्द प्रयुक्त कर सकते हैं-

- A. परोक्ष
- B. अप्रत्यक्ष
- C. प्रत्यक्ष
- D. दर्शनीय

63. 'वह आये तो मैं जाऊँ' – में भविष्यत काल का कौन-सा भेद है-

- A. सम्भाव्य भविष्य
- B. सामान्य भविष्य
- C. हेतुहेतुमद् भविष्य
- D. इनमें से कोई नहीं

64. 'यह कोई नया काम नहीं है' – वाक्य में सर्वनाम है-

- A. सम्बंधवाचक सर्वनाम
- B. निश्चयवाचक सर्वनाम
- C. प्रश्नवाचक सर्वनाम
- D. अनिश्चयवाचक सर्वनाम

SPACE FOR ROUGH WORK / रफ कार्य के लिये जगह

65. अनुनासिक चिह्न का प्रयोग है-

- A. मंत्र
- B. हँस
- C. शोक!
- D. क्यों?

68. तद्भव स्त्री लिंग शब्द है-

- A. रोटी
- B. गन्ना
- C. कपड़ा
- D. पहिया

66. छत्तीसगढ़ी "ओंगना" शब्द का प्रयोग होता है-

- A. गाड़ी में तेल डालने के लिए
- B. खाट में तेल डालने के लिए
- C. कड़ाही में तेल डालने के लिए
- D. डिब्बा में तेल डालने के लिए

69. जिन शब्दों के खण्ड सार्थक न हों उन्हें कहते हैं-

- A. यौगिक
- B. योगरूढ़
- C. रूढ़
- D. विदेशज

67. 'बात करना' के छत्तीसगढ़ी पर्यायवाची होही

- A. खच्चीत
- B. ओझियाना
- C. बोर्रियाना
- D. उसराना

70. परिमाण बोधक विशेषण है-

- A. नुकीला
- B. पतला
- C. दस हाथ जगह
- D. रोगी

SPACE FOR ROUGH WORK / रफ कार्य के लिये जगह

71. 'दाँत काटी रोटी' मुहावरा का अर्थ होता है-

- A. उम्र पता करना
- B. खीस काढ़ना
- C. गहरी दोस्ती
- D. जूठा कर देना

72. 'मंय अपन काम ला आप कर लूहँ' में सर्वनाम है-

- A. निश्चयवाचक सर्वनाम
- B. निजवाचक सर्वनाम
- C. पुरुषवाचक सर्वनाम
- D. सम्बन्धवाचक सर्वनाम

73. अशुद्ध वाक्य है-

- A. मैं आप पर श्रद्धा करता हूँ
- B. यह काम आप पर निर्भर है।
- C. हमारे शिक्षक प्रश्न करते हैं।
- D. मैंने एक वर्ष तक उनकी प्रतीक्षा की।

74. समूहवाचक संज्ञा है-

- A. सिन्धु
- B. ठग
- C. तूफ़ान
- D. गिरोह

75. 'प्रत्यक्ष' का विलोमार्थी है-

- A. परोक्ष
- B. समक्ष
- C. सामने
- D. अक्षम

SPACE FOR ROUGH WORK / रफ़ कार्य के लिये जगह

PART - IV

General English

सामान्य अंग्रेजी


76. Which of the following sentences is grammatically correct?
- A. Before the police came, the thief had run away.
- B. Before the police had come, the thief had run away.
- C. Before the police had come, the thief ran away.
- D. Before the police came, the thief ran away.

77. These books of ----- are very interesting.
Supply the correct form of the pronoun.
- A. them
- B. theirs
- C. their
- D. They

78. The possible passive voice of the given statement is/are :-
'Who starts the pump?'
- A. By whom was the pump started?
- B. By who was the pump started?
- C. By whom is the pump started?
- D. By who is the pump started?

79. Which of the given words is **correctly** spelled?
- A. maintenence
- B. maintenance
- C. mantenance
- D. mentenence

SPACE FOR ROUGH WORK / रफ कार्य के लिये जगह



80. Ms. Swati lives in Durg and teaches at a college in Bhilai. She ----- from Durg to Bhilai every day.

- A. ups and downs
- B. does up and down
- C. goes up and down
- D. commutes

81. The ----- brings milk at 7 O'clock in the morning.
Fill in the blank with the correct expression.

- A. milkwoman
- B. milkmaid
- C. milklady
- D. A and B

82. My ----- have come home for *Teeja*.
Supply the correct expression

- A. sisters-in-law
- B. sister-in-laws
- C. sisters-ins-laws
- D. sisters-in-laws

83. There are many spotty ----- in the flock.

Supply the correct expression.

- A. sheep
- B. sheeps
- C. ships
- D. Lamb


84. What is the antonym of 'coarse?'

- A. uneven
- B. prickly
- C. rough
- D. fine

85. The feminine gender of 'monk' is-

- A. hermit
- B. nun
- C. sage
- D. priestess

SPACE FOR ROUGH WORK / रफ कार्य के लिये जगह



PART - V

General Mathematics

सामान्य गणित

86. If $4:9::12:x$, then $x =$

A. 25

B. 24

C. 28

D. 27

86. यदि $4:9::12:x$, तब $x =$

A. 25

B. 24

C. 28

D. 27

87. A sum of amount doubles itself in 4 years at compound interest. That amount will become eight times of itself at the same rate of interest in the following time-

A. 18 years

B. 12 years

C. 16 years

D. 24 years

87. कोई धनराशि चक्रवृद्धि ब्याज से 4 वर्षों में दुगुनी हो जाती है। वह राशि अपने से 8 गुनी उसी ब्याज की दर से निम्न समय में हो जायेगी-

A. 18 वर्ष

B. 12 वर्ष

C. 16 वर्ष

D. 24 वर्ष

SPACE FOR ROUGH WORK / रफ कार्य के लिये जगह



88. A square is drawn on each side of an equilateral triangle. If each side of the triangle is 8 cm, then find the area of the whole figure.

- A. $195 + 16\sqrt{2} \text{ cm}^2$
- B. $149 + 17\sqrt{3} \text{ cm}^2$
- C. $192 + 16\sqrt{3} \text{ cm}^2$
- D. $165 + 35\sqrt{3} \text{ cm}^2$

89. On what principal the simple interest at the rate of $6\frac{1}{4}\%$ per annum will be one rupee per day if the year is not a leap year?

- A. Rs. 4832
- B. Rs. 6430
- C. Rs. 7500
- D. Rs. 5840

90. The average of 5 consecutive natural numbers is M. If the next three natural numbers are also included, how much more than M will the average of these 8 numbers be?

- A. 2
- B. 1
- C. 1.4
- D. 1.5

88. एक समबाहु त्रिभुज की प्रत्येक भुजा पर वर्ग बनाया गया। यदि त्रिभुज की प्रत्येक भुजा 8 सेमी हो तो सम्पूर्ण आकृति का क्षेत्रफल बताइए।

- A. $195 + 16\sqrt{2}$ सेमी²
- B. $149 + 17\sqrt{3}$ सेमी²
- C. $192 + 16\sqrt{3}$ सेमी²
- D. $165 + 35\sqrt{3}$ सेमी²

89. किस मूलधन का साधारण ब्याज $6\frac{1}{4}\%$ वार्षिक ब्याज की दर से एक रुपया प्रतिदिन होगा यदि वह वर्ष लीप वर्ष नहीं हो?

- A. 4832 रु.
- B. 6430 रु.
- C. 7500 रु.
- D. 5840 रु.

90. 5 प्राकृतिक संख्याओं का औसत M है। यदि अगले तीन प्राकृतिक संख्याओं को सम्मिलित किया जाये, तो इन 8 संख्याओं का औसत M से कितना अधिक है?

- A. 2
- B. 1
- C. 1.4
- D. 1.5

SPACE FOR ROUGH WORK / रफ कार्य के लिये जगह

91. Average of 12 numbers is 15. If a number 41 is also included, then what will be the average of these 13 numbers?

- A. 16
- B. 18
- C. 19
- D. 17

92. At what rate of simple interest will a sum of amount double in 16 years?

- A. 5.25%
- B. 4.80%
- C. 6.5%
- D. 6.25%

93. If the price of oil increases by 90%, then tell by what percent the use of oil should be reduced so that the expenditure does not increase?

- A. 47%
- B. $47\frac{7}{19}\%$
- C. $50\frac{7}{19}\%$
- D. $42\frac{17}{19}\%$

91. 12 संख्याओं का औसत 15 है। यदि एक संख्या 41 को भी शामिल कर लिया जाए, तो इन 13 संख्याओं का औसत क्या होगा?

- A. 16
- B. 18
- C. 19
- D. 17


92. साधारण ब्याज की किस दर से कोई धन 16 वर्षों में 2 गुना हो जायेगा?

- A. 5.25%
- B. 4.80%
- C. 6.5%
- D. 6.25%

93. यदि तेल का मूल्य 90% बढ़ गया, तो बताइए कि तेल का प्रयोग कितने प्रतिशत कम किया जाये कि खर्च में वृद्धि न हो?

- A. 47%
- B. $47\frac{7}{19}\%$
- C. $50\frac{7}{19}\%$
- D. $42\frac{17}{19}\%$

SPACE FOR ROUGH WORK / रफ कार्य के लिये जगह



94. The ratio of $2^{1.5} : 2^{0.5}$ is equal to-

- A. 3:1
- B. 2:1
- C. 1:3
- D. 1:2

95. 5% of A's income is equal to 15% of B's income and 10% of B's income is equal to 20% of C's income. If C's income is Rs. 2,000, then what is the total income of all three?

- A. Rs. 14,000
- B. Rs. 16,000
- C. Rs. 18,000
- D. Rs. 12,000

96. A purchased an article and sold it to B at a loss of 20% and B sold it to C at a gain of 20%. C purchases the article for Rs. 480. For what price (in Rs.) A had purchased the article?

- A. Rs. 500
- B. Rs. 450
- C. Rs. 420
- D. Rs. 480

94. $2^{1.5} : 2^{0.5}$ का अनुपात बराबर है-

- A. 3:1
- B. 2:1
- C. 1:3
- D. 1:2

95. A की आय का 5% B की आय के 15% के बराबर है तथा B की आय का 10% C की आय के 20% के बराबर है। यदि C की आय 2000 रु. हो, तो तीनों की कुल आय कितनी है?

- A. 14,000 रु.
- B. 16,000 रु.
- C. 18,000 रु.
- D. 12,000 रु.

96. A एक वस्तु को खरीदता है तथा B को 20% की हानि पर बेचता है और B उस वस्तु को C को 20% के लाभ पर बेचता है। C वस्तु को 480 रु. में खरीदता है। A ने वस्तु को किस दाम पर खरीदा था?

- A. 500 रु.
- B. 450 रु.
- C. 420 रु.
- D. 480 रु.

SPACE FOR ROUGH WORK / रफ कार्य के लिये जगह

97. What must be added to $8 : 21 :: 13 : 31$ so that the sum becomes proportional?

- A. 3
- B. 5
- C. 7
- D. 12

98. What decimal of a week is an hour?

- A. 0.00595 approx.
- B. 0.00625 approx.
- C. 0.0625 approx.
- D. 0.0595 approx.

99. When the price of cloth was reduced by 25%, the quantity of cloth consumption increased by 20%. Then what will be the effect on gross income of the shop?

- A. 5% increase
- B. 5% decrease
- C. 10% increase
- D. 10% decrease

97. $8 : 21 :: 13 : 31$ में क्या जोड़ा जाए कि योगफल समानुपाती हो जाए?

- A. 3
- B. 5
- C. 7
- D. 12

98. एक सप्ताह में एक घंटे का दशमलव में मान कितना है?

- A. 0.00595 लगभग
- B. 0.00625 लगभग
- C. 0.0625 लगभग
- D. 0.0595 लगभग

99. जब कपड़े की कीमतों में 25% की कमी से कपड़े की खपत 20% बढ़ जाती है, तो दुकानदार के कुल आय पर क्या प्रभाव पड़ेगा?

- A. 5% बढ़ेगा
- B. 5% घटेगा
- C. 10% बढ़ेगा
- D. 10% घटेगा

SPACE FOR ROUGH WORK / रफ कार्य के लिये जगह


100. If $p : q : r = 1 : 2 : 4$, then $\sqrt{5p^2 + q^2 + r^2}$ is equal to-

- A. 8
- B. $2q$
- C. $5p$
- D. $4r$

100. यदि $p : q : r = 1 : 2 : 4$, तब $\sqrt{5p^2 + q^2 + r^2}$ के बराबर है-


- A. 8
- B. $2q$
- C. $5p$
- D. $4r$

SPACE FOR ROUGH WORK / रफ कार्य के लिये जगह



SPACE FOR ROUGH WORK / रफ कार्य के लिये जगह

SPACE FOR ROUGH WORK / रफ कार्य के लिये जगह



उत्तर अंकित करने का समय : 2 घंटे
Time for making answers : 2 Hours

अधिकतम अंक : 100
Maximum Marks : 100

नोट :

1. इस प्रश्न पुस्तिका में निम्न भाग होंगे –

भाग	विवरण	कुल प्रश्न	अंक
भाग-1	महिला एवं बाल विकास विभाग से सम्बन्धित योजनाएँ एवं कार्यक्रम	20	20
भाग-2	सामान्य मानसिक योग्यता एवं सामान्य ज्ञान	40	40
भाग-3	सामान्य हिन्दी एवं छत्तीसगढ़ी भाषा का सामान्य ज्ञान	15	15
भाग-4	सामान्य अंग्रेजी	10	10
भाग-5	सामान्य गणित	15	15

प्रत्येक प्रश्न 1 अंक का है। सभी प्रश्न करने अनिवार्य हैं।

- प्रश्नों के उत्तर, दी गई OMR उत्तरशीट (आंसरशीट) पर अंकित कीजिए।
- गलत उत्तर अंकित करने पर 1/4 अंक काटे जायेंगे।
- किसी भी तरह के कैलकुलेटर या लॉग टेबल एवं मोबाइल फोन का प्रयोग वर्जित है।
- OMR उत्तरशीट (आंसरशीट) का प्रयोग करते समय ऐसी कोई असावधानी न करें/बरतें जिससे यह फट जाये या उसमें मोड़ या सिलवट आदि पड़ जाये जिसके फलस्वरूप वह खराब हो जाये।

Note :

1. This question paper consists of following parts namely :-

Part	Particular	Total Question	Marks
Part-1	Women and Child Development Department Related Schemes and Programmes	20	20
Part-2	General Mental Aptitude & General Knowledge	40	40
Part-3	General Hindi & Chhattisgarhi Language of General Knowledge	15	15
Part-4	General English	10	10
Part-5	General Mathematics	15	15

Each question carries 1 mark. All questions are compulsory.

- Indicate your answers on the OMR Answer-Sheet provided.
- 1/4 mark will be deducted for each wrong Answer.**
- Use of any type of calculator or log table and mobile phone is prohibited.
- While using OMR Answer-Sheet care should be taken so that the Answer-Sheet does not get torn or spoiled due to folds and wrinkles.