

Subject  
Code

20202102-YAV-REC-VNW-M

SET- **A** Question  
Booklet No.

परीक्षा केन्द्राध्यक्ष की मोहर  
Seal of Superintendent of Examination Centre

परीक्षार्थी द्वारा बॉल-प्वाइंट पेन से भरा जाए  
To Be filled in by Candidate by Ball-Point pen only

उत्तर शीट का क्रमांक  
Sl. No. of Answer-Sheet

अनुक्रमांक

Roll No.

घोषणा : मैंने नीचे दिये गये निर्देश अच्छी तरह पढ़कर समझ लिए हैं।

Declaration : I have read and understood the instructions given below.

वीक्षक के हस्ताक्षर

(Signature of Invigilator) -----

वीक्षक के नाम

(Name of Invigilator) -----

अभ्यर्थी के हस्ताक्षर

(Signature of Candidate) -----

अभ्यर्थी का नाम

(Name of Candidate) -----

पूर्णांक - 300

समय - 2 घंटे

प्रश्न पुस्तिका में पृष्ठों की संख्या

Number of Pages in this Question Booklet : **32**

प्रश्न पुस्तिका में प्रश्नों की संख्या

Number of Questions in this Question Booklet : **100**

अभ्यर्थियों के लिए निर्देश

1. प्रश्न-पुस्तिका मिलते ही मुख्य पृष्ठ एवं अंतिम पृष्ठ में दिए गए निर्देशों को अच्छी तरह पढ़ लें। प्रश्न पुस्तिका में लगी सील को वीक्षक के कहने से पूर्व न खोलें।
2. ऊपर दिए हुए निर्धारित स्थानों में अपना अनुक्रमांक, उत्तर-पुस्तिका का क्रमांक लिखें तथा अपने हस्ताक्षर करें।
3. ओ.एम.आर. उत्तर-शीट में समस्त प्रविष्टियां दिये गये निर्देशानुसार करें अन्यथा उत्तर-शीट का मूल्यांकन नहीं किया जाएगा।
4. सील खोलने के बाद सुनिश्चित कर लें कि प्रश्न-पुस्तिका में कुल पृष्ठ ऊपर लिखे अनुसार दिए हुए हैं तथा उसमें सभी 100 प्रश्नों का मुद्रण सही है। किसी भी प्रकार की त्रुटि होने पर 15 मिनट के अंदर वीक्षक को सूचित कर सही प्रश्न-पुस्तिका प्राप्त करें।
5. प्रत्येक प्रश्न हेतु प्रश्न-पुस्तिका में प्रश्न के नीचे दिए गए चार विकल्पों में से सही/सबसे उपयुक्त केवल एक ही विकल्प का चयन कर उत्तर शीट में सही विकल्प वाले गोले को जो उस प्रश्न के सरल क्रमांक से सम्बंधित हो काले या नीले बॉल-प्वाइंट पेन से भरें।
6. सही उत्तर वाले गोले को अच्छी तरह से भरें, अन्यथा उत्तरों का मूल्यांकन नहीं होगा। इसकी समस्त जिम्मेदारी परीक्षार्थी की होगी।
7. प्रश्न-पुस्तिका में 100 वस्तुनिष्ठ प्रश्न दिए गए हैं। प्रत्येक सही उत्तर हेतु 03 अंक आबंटित किया गया है। ऋणात्मक मूल्यांकन नहीं किया जावेगा।
8. प्रश्न-पुस्तिका तथा उत्तर-शीट में निर्दिष्ट स्थानों पर प्रविष्टियां भरने के अतिरिक्त कहीं भी कुछ न लिखें। अन्यथा OMR शीट का मूल्यांकन नहीं किया जायेगा।
9. परीक्षा समाप्ति के उपरान्त केवल ओ.एम.आर. उत्तर-शीट एवं प्रश्न पुस्तिका की कव्हर पेज वीक्षक को सौंपनी है। उत्तर-शीट की कार्बन कॉपी तथा प्रश्न-पुस्तिका परीक्षार्थी अपने साथ ले जा सकते हैं।
10. इस प्रश्न पुस्तिका में निम्न भाग होंगे :-

क्र.	पाठ्यक्रम	प्रश्न	अंक
1.	सामान्य अध्ययन	35	105
2.	राज्य का सामान्य ज्ञान	25	75
3.	कम्प्यूटर की सामान्य जानकारी	5	15
4.	सामान्य मानसिक योग्यता	10	30
5.	सामान्य गणित	10	30
6.	सामान्य हिन्दी	10	30
7.	सामान्य अंग्रेजी	5	15
11. यदि हिन्दी/अंग्रेजी भाषा में कोई संदेह है तो अंग्रेजी भाषा को ही प्रामाणिक माना जायेगा।

INSTRUCTION TO CANDIDATES


1. Immediately after getting the booklet read instructions carefully, mentioned on the front and back page of the question booklet and do not open the seal given on the question booklet, unless asked by the invigilator.
2. Write your Roll No., Answer Sheet No., in the specified places given above and put your signature.
3. Make all entries in the OMR Answer Sheet as per the given instructions otherwise Answer-Sheet will not be evaluated.
4. After Opening the seal, ensure that the Question booklet contains total no. of pages as mentioned above and printing of all the 100 questions is proper. If any discrepancy is found, inform the invigilator within 15 minutes and get the correct booklet.
5. While answering the question from the question Booklet, for each question choose the correct/most appropriate option out of four options given, as answer and darken the circle provided against that option in the OMR Answer sheet, bearing the same serial number of the question. Darken the circle only with Black or Blue ball point pen.
6. Darken the circle of correct answer properly otherwise answers will not be evaluated. The candidate will be fully responsible for it.
7. There are 100 objective type questions in this question booklet. 03 mark is allotted. No negative marking will be done.
8. Do not write anything anywhere in the Question booklet and the Answer-Sheet except making entries in the specified places otherwise OMR sheet will not be evaluated.
9. After completion of the examination, only OMR Answer Sheet and cover page of question booklet is to be handed over to the invigilator. Carbon copy of the Answer-Sheet and Question Booklet may be taken away by the examinee.
10. This Question Paper consists of Parts namely :-

S.no.	Syllabus	Questions	Marks
1.	General Studies	35	105
2.	General Knowledge of State	25	75
3.	General Knowledge of Computer	5	15
4.	General Mental Aptitude	10	30
5.	General Mathematics	10	30
6.	General Hindi	10	30
7.	General English	5	15
11. In case of any ambiguity in Hindi/English version the English version shall be considered authentic.

20202102-YAV-REC-VNW-M

Set - A

**SPACE FOR ROUGH WORK / रफ कार्य के लिये जगह**



## PART-I

### General Studies

### सामान्य अध्ययन

1. For separating cream from milk which force is being applied?  
A. Centrifugal Force  
B. Centripetal Force  
C. Gravitational Force  
D. External Force
2. To cancel the veto of President on a bill, which majority is required of each house?  
A. Majority of the then members  
B. Simple majority  
C. Absolute majority  
D. 2/3 majority
3. According to the FIH World Rankings, what is the rank of Indian men's hockey team in June 2022?  
A. Third  
B. Second  
C. Fourth  
D. None of the above
4. Which of these countries constitute approximately 57% of the various large dams in the world?  
A. Brazil and India  
B. Japan and India  
C. China and India  
D. Brazil and China

1. दूध से क्रीम निकालने में कौन सा बल लगता है?  
A. अपकेन्द्रीय बल  
B. अभीकेन्द्रीय बल  
C. गुरुत्वीय बल  
D. बाह्य बल
2. किसी विधेयक पर राष्ट्रपति के निषेधाधिकार को निरस्त करने के लिए किस बहुमत की आवश्यकता होती है?  
A. तत्कालीन सदस्यों का बहुमत  
B. साधारण बहुमत  
C. निरपेक्ष बहुमत  
D. 2/3 बहुमत
3. FIH वर्ल्ड रैंकिंग के अनुसार जून 2022 में भारतीय पुरुष हॉकी टीम का रैंक क्या है?  
A. तीसरा  
B. दूसरा  
C. चौथा  
D. उपरोक्त में से कोई नहीं
4. दुनिया के विभिन्न बड़े बांधों का लगभग 57% बड़े बांध ----- में हैं।  
A. ब्राजील और भारत  
B. जापान और भारत  
C. चीन और भारत  
D. ब्राजील और चीन

---

SPACE FOR ROUGH WORK / रफ कार्य के लिये जगह

5. Which one of the following pair is not correctly matched?
- A. Jannalal Bajaj – Satyagraha Ashram Wardha
  - B. Dadabhai Naoroji – Bombay Association
  - C. Lala Lajpat Rai – National School Lahore
  - D. Bal Gangadhar Tilak – Satyashodhak Sabha
6. Which of these gases is not permitted to be released by the prevention and Control of Pollution Act by the Indian Government?
- A. Sulphur Dioxide
  - B. Carbon Monoxide
  - C. Nitrogen Oxide
  - D. All of the above
7. *Swadeshi* Movement was started-
- A. As a protest against the partition of Bengal
  - B. To encourage consumption of Indian goods
  - C. Protest against the killing of Indians in *Jallianwala Bagh*
  - D. Reasons for the failure of the British government to form a responsible government in India

5. कौन सी जोड़ी सुमेलित नहीं है?
- A. जमनालाल बजाज – सत्याग्रह आश्रम वर्धा
  - B. दादाभाई नौरोजी – बम्बई एसोसिएशन
  - C. लाला लाजपत राय – नेशनल स्कूल लाहौर
  - D. बाल गंगाधर तिलक – सत्यशोधक सभा
6. इनमें से किस गैस को भारत सरकार द्वारा प्रदूषण निवारण और नियंत्रण अधिनियम द्वारा उत्सर्जित करने की अनुमति नहीं है?
- A. सल्फर डाइऑक्साइड
  - B. कार्बन मोनोऑक्साइड
  - C. नाइट्रोजन ऑक्साइड
  - D. ऊपर के सभी
7. स्वदेशी आन्दोलन शुरू किया गया था-
- A. बंगाल विभाजन के विरोध के रूप में
  - B. भारतीय माल के उपभोग को प्रोत्साहित करने के लिए
  - C. जलियांवाला बाग में भारतीयों की हत्या के विरोध में
  - D. भारत में एक उत्तरदायी सरकार बना सकने में ब्रिटिश सरकार की असफलता के कारण

---

SPACE FOR ROUGH WORK / रफ कार्य के लिये जगह

8. 'Eat, Drink and Be Merry' is the ethical motto of-
- A. Jainism  
B. Charvaka  
C. Buddhism  
D. Yoga
9. If interest payment is added with primary deficit, it will become-
- A. Budget deficit  
B. Fiscal deficit  
C. Financial system of deficit  
D. Revenue loss
10. In which IIT institute *Param Anant Supercomputer* has been commissioned under National Supercomputing Mission?
- A. IIT Delhi  
B. IIT Madras  
C. IIT Gandhinagar  
D. IIT Mumbai
11. Which was the most famous area of indigo production in the *Mughal Empire*?
- A. Lahore  
B. Malwa  
C. Gujarat  
D. Bayana
8. 'खाओ, पियो और खुश रहो' किसका नैतिक आदर्श वाक्य है?
- A. जैन धर्म  
B. चार्वक  
C. बौद्ध धर्म  
D. योग
9. यदि प्राथमिक घाटे में ब्याज भुगतान को शामिल कर लिया जाए, तो यह बराबर होता है-
- A. बजट घाटे के  
B. राजकोषीय घाटे के  
C. घाटे की वित्त व्यवस्था के  
D. आगम घाटे के
10. राष्ट्रीय सुपरकंप्यूटिंग मिशन के तहत किस राष्ट्रीय प्रौद्योगिकी संस्थान में परम अनंत सुपरकंप्यूटर चालू किया गया है?
- A. आई आई टी दिल्ली  
B. आई आई टी मद्रास  
C. आई आई टी गांधीनगर  
D. आई आई टी मुंबई
11. मुगल साम्राज्य में नील उत्पादन का सबसे प्रसिद्ध क्षेत्र था-
- A. लाहौर  
B. मालवा  
C. गुजरात  
D. बयाना

---

SPACE FOR ROUGH WORK / रफ कार्य के लिये जगह

12. The main objective of the first five year plan of India was-

- A. Development of Ports
- B. Development of Infrastructure
- C. Development of Industries
- D. Development of Agriculture

13. What is / are the similarity / similarities between a Judge of Supreme Court and Comptroller and Auditor General?

- (i) Appointment
  - (ii) Salary
  - (iii) Removal
  - (iv) Tenure
- A. (i)
  - B. (i) (ii)
  - C. (i) (ii) (iii)
  - D. (i) (ii) (iii) (iv)

14. What was Tilak's reaction to the "Age Consent Act" of 1891?

- A. Full support
- B. Partial support
- C. Complete opposition
- D. Neutrality

15. *Vaisesika sutras* were written by which Sage?

- A. *Kapila*
- B. *Sankara*
- C. *Kanada*
- D. None of these

12. भारत की प्रथम पंचवर्षीय योजना का मुख्य उद्देश्य था-

- A. बंदरगाहों का विकास
- B. आधारीक संरचना का विकास
- C. उद्योगों का विकास
- D. कृषि का विकास

13. सर्वोच्च न्यायालय के न्यायाधीश और नियन्त्रक महालेखापरीक्षक में क्या समानता / समानताएँ हैं?

- (i) नियुक्ति
  - (ii) वेतन
  - (iii) पदच्युति
  - (iv) कार्यकाल
- A. (i)
  - B. (i) (ii)
  - C. (i) (ii) (iii)
  - D. (i) (ii) (iii) (iv)

14. 1891 के 'आयु सहमति अधिनियम' के प्रति तिलक जी की क्या प्रतिक्रिया थी?

- A. पूर्ण समर्थन
- B. आंशिक समर्थन
- C. पूर्ण विरोध
- D. तटस्थता

15. वैशेषिक सूत्र किस ऋषि द्वारा लिखे गए थे?

- A. कपिला
- B. शंकर
- C. कणाद
- D. इनमें से कोई नहीं

---

SPACE FOR ROUGH WORK / रफ कार्य के लिये जगह

16. *Astika Darsana* believes in what?

- A. Authority of *Vedas*
- B. Authority of Gods
- C. Authority of *Karma*
- D. None of these

17. Which is unmatched in the context of membership of the house?

- A. Speaker of House of the people
- B. Speaker of State Legislative Assembly
- C. Chairman of Council of State
- D. Chairman of State Legislative Council

18. True statement about Reserve Bank of India is-

- A. It was established in 1835
- B. Government of India Nationalised it on 1949
- C. It does general Banking business
- D. It is a issuing agency of one rupees coin

19. Which political organization / party did not boycott the Simon Commission?

- A. Hindu Mahasabha
- B. Muslim League
- C. Punjab Unionist
- D. Indian Congress

16. अस्तिका दर्शन किसमें विश्वास करता है?

- A. वेदों का अधिकार
- B. देवताओं का अधिकार
- C. कर्म का अधिकार
- D. इनमें से कोई नहीं

17. सदन की सदस्यता के संदर्भ में क्या सुमेलित नहीं है?

- A. लोकसभा अध्यक्ष
- B. राज्य विधानसभा अध्यक्ष
- C. राज्यसभा का सभापति
- D. राज्य विधानपरिषद का सभापति

18. भारतीय रिजर्व बैंक के बारे में सत्य कथन है-

- A. इसकी स्थापना 1835 में हुई थी।
- B. भारत सरकार द्वारा इसका राष्ट्रीयकरण सन् 1949 में किया गया था।
- C. यह सामान्य बैंकिंग व्यवसाय करता है।
- D. यह एक रूपये के सिक्कों की निर्गम एजेन्सी है।

19. किस राजनीतिक संस्था / पार्टी ने साइमन कमीशन का बहिष्कार नहीं किया?

- A. हिन्दू महासभा
- B. मुस्लिम लीग
- C. पंजाब यूनियनिस्ट
- D. भारतीय कांग्रेस

---

SPACE FOR ROUGH WORK / रफ कार्य के लिये जगह

20. Rate of Interest below which scheduled commercial bank do not give debt-

- A. Base Rate
- B. Reverse Repo Rate
- C. Repo Rate
- D. Bank Rate

21. Which one of the following states of India records the lowest density of population according to 2011 census?

- A. Arunachal Pradesh
- B. Meghalaya
- C. Tripura
- D. Manipur

22. On which occasion the both houses of State Legislature Assembled together?

- (i) At the commencement of the first session after each general election of Legislative Assembly
  - (ii) At the commencement of the first session of each year of State Legislature
  - (iii) To consider on a bill if there is differences between two houses
  - (iv) To consider on a amendment bill if there is differences between two houses
- A. (i)
  - B. (i) (ii)
  - C. (i) (ii) (iii)
  - D. (i) (ii) (iii) (iv)

20. वह ब्याज दर जिसके नीचे अनुसूचीबद्ध व्यवसायिक बैंक अपने ग्राहकों को कोई ऋण नहीं देते, कहलाता है-

- A. बेस दर
- B. प्रतिवर्ती रेपो दर
- C. रेपो दर
- D. बैंक दर

21. भारत के निम्नलिखित राज्यों में से कौन सा राज्य 2011 की जनगणना के अनुसार सबसे कम जनसंख्या घनत्व दर्ज करता है?

- A. अरुणाचल प्रदेश
- B. मेघालय
- C. त्रिपुरा
- D. मणिपुर

22. किस अवसर पर राज्य विधानमण्डल के दोनों सदन समवेत बैठते हैं?

- (i) विधान सभा के आम चुनाव के बाद प्रथम अधिवेशन के अवसर पर
  - (ii) राज्य विधानमण्डल के प्रत्येक वर्ष के प्रथम अधिवेशन के अवसर पर
  - (iii) यदि किसी विधेयक पर दोनों सदनों में मतभेद हो तो उस पर विचार करने के लिए
  - (iv) किसी संशोधन विधेयक पर दोनों सदनों में मतभेद हो तो उस पर विचार करने के लिए
- A. (i)
  - B. (i) (ii)
  - C. (i) (ii) (iii)
  - D. (i) (ii) (iii) (iv)

---

SPACE FOR ROUGH WORK / रफ कार्य के लिये जगह



23. Which country topped the Medal tally in IBA Women's World Boxing Championships 2022?

- A. Turkey
- B. Iran
- C. Russia
- D. None of the above

24. Which campaign of Chhattisgarh Police is not awarded by Federation of Indian Chambers of Commerce & Industry (FICCI) during the year 2022?

- A. *Samvedana Abhiyan*
- B. *Samarpan Abhiyan*
- C. *Abhivyaakti Abhiyan*
- D. *Cyber Mitan Abhiyan*

25. 'Triratnas' are related to-

- A. *Jainism*
- B. *Buddhism*
- C. *Jainism and Buddhism both*
- D. None of these

26. Virus are-

- A. Living
- B. Non-Living
- C. Transitional group between living and non-living
- D. Living who lost their ability of multiplication

23. आईबीए महिला विश्व मुक्केबाजी चैंपियनशिप 2022 में पदक तालिका में कौन सा देश शीर्ष पर है?

- A. तुर्की
- B. ईरान
- C. रूस
- D. उपरोक्त में से कोई नहीं

24. वर्ष 2022 में छत्तीसगढ़ पुलिस के किस अभियान को भारतीय वाणिज्य एवं उद्योग महासंघ (फिक्की) द्वारा पुरस्कृत नहीं किया गया?

- A. संवेदना अभियान
- B. समर्पण अभियान
- C. अभिव्यक्ति अभियान
- D. साईबर मितान अभियान

25. 'त्रिरत्न' किससे संबंधित हैं?

- A. जैन धर्म
- B. बौद्ध धर्म
- C. जैन धर्म और बौद्ध धर्म दोनों
- D. इनमें से कोई नहीं

26. विषाणु माने जाते हैं-

- A. सजीव पदार्थ
- B. निर्जीव पदार्थ
- C. सजीव और निर्जीव के बीच एक ट्रान्जीशनल ग्रुप
- D. सजीव जो गुणन की शक्ति खो चुके हैं

---

SPACE FOR ROUGH WORK / रफ कार्य के लिये जगह

27. What is the meaning of balanced budget?
- I) A budget in which gross public expenditure is equal to gross income (Revenue receipts).  
II) A budget in which Revenue loss is zero.
- A. Statement I is correct.  
B. Statement II is correct.  
C. Both the statements are correct.  
D. Both the statements are wrong.

28. Who won the men's singles title at French Open 2022?
- A. Novak Djokovic  
B. Rafael Nadal  
C. Roger Federer  
D. Rod Laver

29. In relation to arms which Bore is prohibited for use by common people in India?
- A. 12 bore  
B. 0.32 bore  
C. 0.38 bore  
D. 315 bore

30. *Asatkaryavada* is the causation theory of-
- A. *Nyaya*  
B. *Jainism*  
C. *Vedanta*  
D. *Samkhya*

27. सन्तुलित बजट से क्या अभिप्राय है?
- I) जिस बजट का सकल सार्वजनिक क्षेत्र व्यय उसके सकल आय (राजस्व प्राप्तियों) के बराबर होती है।  
II) अगर किसी बजट का राजस्व घाटा शून्य हों।
- A. कथन I सही है।  
B. कथन II सही है।  
C. दोनों कथन सही हैं।  
D. दोनों कथन गलत हैं।

28. फ्रेंच ओपन 2022 में पुरुष एकल का खिताब किसने जीता?
- A. नोवाक जोकोविच  
B. राफेल नडाल  
C. रोजर फेडरर  
D. रॉड लेवर

29. शस्त्रों के संबंध में कौन सा बोर सामान्य नागरिकों के द्वारा उपयोग के लिये प्रतिबंधित है?
- A. 12 bore  
B. 0.32 bore  
C. 0.38 bore  
D. 315 bore

30. असत्कार्यवाद किसका कार्य-कारण सिद्धांत है?
- A. न्याय  
B. जैन धर्म  
C. वेदांत  
D. सांख्य

---

SPACE FOR ROUGH WORK / रफ कार्य के लिये जगह

31. Satellites of which country were sent to the space by ISRO's PSLV-C53 mission?

- A. Singapore
- B. Bangladesh
- C. Sri Lanka
- D. Myanmar

32. Which one of the following is not usually considered an indicator of social well-being?

- A. Infant mortality
- B. Female literacy
- C. Availability of potable water
- D. Crime

33. *Munda* tribe belongs to which racial group?

- A. Negrito
- B. Proto-Australoids
- C. Mongoloid
- D. Nordics

31. भारतीय अन्तरिक्ष अनुसंधान संगठन द्वारा पी.एस.एल.वी.-सी. 53 मिशन द्वारा किस देश के उपग्रहों को अंतरिक्ष भेजा गया था?

- A. सिंगापुर
- B. बांग्लादेश
- C. श्रीलंका
- D. म्यांमार

32. निम्नलिखित में से किसे आमतौर पर सामाजिक कल्याण का सूचक नहीं माना जाता है?

- A. शिशु मृत्यु दर
- B. महिला साक्षरता
- C. पीने योग्य पानी की उपलब्धता
- D. अपराध

33. मुंडा जनजाति किस नस्ल के समूह से सम्बन्धित है?

- A. नेग्रिटो
- B. प्रोटो-ऑस्ट्रेलोइड्स
- C. मंगोलॉयड
- D. नॉर्डिक्स

---

SPACE FOR ROUGH WORK / रफ कार्य के लिये जगह

34. If any question arises as to whether a member of State Legislative Assembly has become subject to any of the disqualification, what will happen?
- A. The speaker will decide about his membership of the house
  - B. The house will decide by 2/3 majority about his membership of the house
  - C. The Governor will decide about his membership of the house
  - D. The Governor will decide with the opinion of Election Commission about his membership of the house

35. The first linguistic survey of India was conducted by ----
- A. Barber
  - B. Emeneau
  - C. Grierson
  - D. Khubchandani

34. यदि यह प्रश्न उठता है कि राज्य विधान सभा का कोई सदस्य अयोग्यता से युक्त हो गया है, तो क्या होगा?
- A. अध्यक्ष उसकी सदन की सदस्यता के सम्बंध में निर्णय लेगा
  - B. सदन 2/3 बहुमत से उसकी सदन की सदस्यता के सम्बंध में निर्णय लेगा
  - C. राज्यपाल उसकी सदन की सदस्यता के सम्बंध में निर्णय लेगा
  - D. राज्यपाल निर्वाचन आयोग के मतानुसार उसकी सदन की सदस्यता के सम्बंध में निर्णय लेगा

35. भारत का पहला भाषाई सर्वेक्षण किसके द्वारा आयोजित किया गया था?
- A. बार्बर
  - B. एमेन्यू
  - C. ग्रियर्सन
  - D. खुबचंदन

---

SPACE FOR ROUGH WORK / रफ कार्य के लिये जगह

## PART-II

### General Knowledge of State

### राज्य का सामान्य ज्ञान

36. Since when has been “*Godhan Nyay Yojana*” implemented in Chhattisgarh?

- A. 21 June 2020
- B. 21 July 2020
- C. 21 August 2020
- D. 21 September 2020

37. Who is the owner of *Dalli-Rajhara* iron ore regions?

- A. RMML-MSPL
- B. SAIL
- C. National Mineral Development Corporation, Ltd (NMDC)
- D. Bhilai Steel Plant

38. When was the program started “*Tuhar Paudha Tuhar Dwar*”?

- A. 1 July 2022
- B. 11 July 2022
- C. 10 July 2022
- D. 21 July 2022

39. How many members out of the total members are required for completing the quorum of the *Gram Sabha*?

- A. 1/2 members
- B. 1/3 members
- C. 1/5 members
- D. 1/10 members

36. छत्तीसगढ़ में ‘गोधन न्याय योजना’ कब से लागू की गई है?

- A. 21 जून 2020
- B. 21 जुलाई 2020
- C. 21 अगस्त 2020
- D. 21 सितम्बर 2020

37. दल्ली-राजहरा लौह अयस्क क्षेत्रों का मालिक कौन है?

- A. आरएमएमएल-एमएसपीएल
- B. सेल
- C. राष्ट्रीय खनिज विकास निगम, लिमिटेड (एनएमडीसी)
- D. भिलाई इस्पात संयंत्र

38. “तुहर पौधा तुहर द्वार” कार्यक्रम का शुभारंभ कब हुआ?

- A. 1 जुलाई 2022
- B. 11 जुलाई 2022
- C. 10 जुलाई 2022
- D. 21 जुलाई 2022

39. ग्राम सभा की गणपूर्ति के लिये कुल सदस्यों की संख्या के ----- सदस्य उपस्थित होना चाहिये?

- A. 1/2 सदस्य
- B. 1/3 सदस्य
- C. 1/5 सदस्य
- D. 1/10 सदस्य

---

SPACE FOR ROUGH WORK / रफ कार्य के लिये जगह

40. Chinese Media had called the *Naxalbari* Movement as-

- A. Spring Thunder
- B. People Movement
- C. Hero Movement
- D. None of these

41. Which of the following is not correctly matched?

- 1) *Meriya* Revolt – Hidma Manjhi
- 2) *Tarapur* Revolt – Dalganjan Singh
- 3) *Lingagiri* Revolt – Nangul Dorala
- 4) *Muriya* Revolt – Jhada Siraha

- A. 1 and 2
- B. 1 and 4
- C. Only 1
- D. Only 3

42. The folk dance on Heroism of Chhattisgarh which is also known as *Lok Ballet* is-

- A. *Reela*
- B. *Gaura*
- C. *Pandwani*
- D. *Bilma*

43. Which of the following district is part of *Narmada* Basin?

- A. Rajnandgaon
- B. Raipur
- C. Korba
- D. Bastar

40. चीनी मिडिया ने नक्सलबाड़ी आंदोलन को बुलाया था-

- A. वसंत थंडर
- B. लोक आंदोलन
- C. हीरो आंदोलन
- D. इनमें से कोई नहीं

41. निम्नलिखित में कौन सुमेलित नहीं है?

- 1) मेरिया विद्रोह – हिडमा मांझी
- 2) तारापुर विद्रोह – दलगंजन सिंह
- 3) लिंगागिरी विद्रोह – नांगुल दोरला
- 4) मुरिया विद्रोह – झाड़ा सिरहा

- A. 1 व 2
- B. 1 व 4
- C. केवल 1
- D. केवल 3

42. छत्तीसगढ़ की वीरगाथाओं पर आधारित लोक नृत्य जिसे लोक बैले के नाम से भी जाना जाता है-

- A. रीला
- B. गौर
- C. पंडवानी
- D. बिल्मा

43. निम्नलिखित में से कौन सा जिला नर्मदा बेसिन का हिस्सा है?

- A. राजनांदगांव
- B. रायपुर
- C. कोरबा
- D. बस्तर

---

SPACE FOR ROUGH WORK / रफ कार्य के लिये जगह

44. The wildlife sanctuary in *Mahasamund* District of Chhattisgarh is-

- A. *Udanti* Wildlife Sanctuary
- B. *Barnawapara* Wildlife Sanctuary
- C. *Sitanagi* Wildlife Sanctuary
- D. *Indravati* Wildlife Sanctuary

45. Which is an earth-fill embankment dam?

- A. *Minimata Hasdeo Bango*
- B. *Kherkatta* Reservoir
- C. *Mongra* Barrage
- D. *Murrum Silli* Dam

46. *Salwa Judum* started in which year?

- A. 2001
- B. 1998
- C. 2003
- D. None of these

47. Who is the minister of "Urban Administration and Development and Labour" Department of the State?

- A. Shri Guru Rudra Kumar
- B. Dr. Shivkumar Dahariya
- C. Shri Umesh Patel
- D. Shri Amarjeet Singh Bhagat

48. Who is the author of "*Subah Ki Talash*" (Novel)?

- A. Dr. Narendra Dev Varma
- B. Pardeshi Ram Varma
- C. Devi Prasad Varma
- D. Vinod Kumar Varma

44. छत्तीसगढ़ के महासमुंद जिले में कौन सा वन्यजीव अभ्यारण्य है?

- A. उदंती वन्यजीव अभ्यारण्य
- B. बारनवापारा वन्यजीव अभ्यारण्य
- C. सीतानागी वन्यजीव अभ्यारण्य
- D. इंद्रावती वन्यजीव अभ्यारण्य

45. मिट्टी से भरा तटबंध बांध कौन सा है?

- A. मिनीमाता हसदेव बांगो
- B. खेरकट्टा जलाशय
- C. मोंगरा बांध
- D. मुर्रम सिली डैम

46. सलवा जुडूम कि शुरुआत किस वर्ष हुई?

- A. 2001
- B. 1998
- C. 2003
- D. इनमें से कोई नहीं

47. इस राज्य के 'नगरीय प्रशासन और विकास एवं श्रम' विभाग के मंत्री कौन है?

- A. श्री गुरु रुद्र कुमार
- B. डॉ. शिवकुमार डहरिया
- C. श्री उमेश पटेल
- D. श्री अमरजीत सिंह भगत

48. 'सुबह की तलाश' (उपन्यास) किसकी रचना है?

- A. डॉ. नरेन्द्र देव वर्मा
- B. परदेशी राम वर्मा
- C. देवी प्रसाद वर्मा
- D. विनोद कुमार वर्मा

---

SPACE FOR ROUGH WORK / रफ कार्य के लिये जगह

49. What is the percentage of forested land in Chhattisgarh?

- A. 35.01%
- B. 38.01%
- C. 44.21%
- D. 43.85%

50. Naxalism is inspired by the ideology of which of the following persons?

- A. Marx
- B. Lenin
- C. Mao-Tse-Tung
- D. All of the above

51. Which *Kalchuri* ruler did not rule from *Tumman* in Chhattisgarh?

- A. Kalinga Raj
- B. Kamal Raj
- C. Prithvi Dev First
- D. Ratna Dev First

52. A border state of Chhattisgarh which is not naxal affected-

- A. Orissa
- B. Uttar Pradesh
- C. Maharashtra
- D. Tamilnadu

49. छत्तीसगढ़ में वनभूमि का प्रतिशत कितना है?

- A. 35.01%
- B. 38.01%
- C. 44.21%
- D. 43.85%

50. नक्सलवाद निम्नलिखित में से किस व्यक्ति की विचारधारा से प्रेरित है?

- A. मार्क्स
- B. लेनिन
- C. माओ-त्से-तुंग
- D. उपरोक्त सभी

51. छत्तीसगढ़ में किस कल्चुरि शासक ने तुम्माण से शासन नहीं किया?

- A. कलिंगराज
- B. कमलराज
- C. पृथ्वीदेव प्रथम
- D. रत्नदेव प्रथम

52. छत्तीसगढ़ का सीमावर्ती राज्य जो नक्सल प्रभावित नहीं है-

- A. उड़ीसा
- B. उत्तर प्रदेश
- C. महाराष्ट्र
- D. तमिलनाडु

---

SPACE FOR ROUGH WORK / रफ कार्य के लिये जगह



53. Who is the present Director General of Police (DGP) of Chhattisgarh?

- A. Shri Abhishek Pallava
- B. Shri Ashok Juneja
- C. Shrimati Millna Kurrey
- D. Shri Sujit Kumar

54. How many Police Stations are there in the state of Chhattisgarh?

- A. 284
- B. 428
- C. 482
- D. 824

55. Which of the following is a musical instrument of *Kurukh*?

- A. *Mandar*
- B. *Kartal*
- C. *Nagara*
- D. All of the above

56. Who is the founder of "*Chhattisgarhi Dehati Kala Mandal*"?

- A. Ramchandra Deshmukh
- B. Dular Singh Mandraji
- C. Habib Tanveer
- D. Naik Das and Jhumuk Das

53. छत्तीसगढ़ के वर्तमान पुलिस महानिदेशक (DGP) कौन है?

- A. श्री अभिषेक पल्लव
- B. श्री अशोक जुनेजा
- C. श्रीमती मिलना कुर्रे
- D. श्री सुजीत कुमार

54. छत्तीसगढ़ राज्य में कितने पुलिस थाने हैं?

- A. 284
- B. 428
- C. 482
- D. 824

55. निम्नलिखित में से कौन कुरुख का वाद्य यंत्र है?

- A. मांदर
- B. करताल
- C. नगाड़ा
- D. ऊपर के सभी

56. 'छत्तीसगढ़ी देहाती कला मंडल' के संस्थापक है-

- A. रामचंद्र देशमुख
- B. दुलार सिंह मंदराजी
- C. हबीब तनवीर
- D. नाइकदास एवं झुमुकदास

---

SPACE FOR ROUGH WORK / रफ कार्य के लिये जगह

57. How many agricultural produce sub-*mandi* and *mandi* are there for systematic marketing of agricultural produce in the state of Chhattisgarh?

- A. 118 and 69
- B. 69 and 118
- C. 108 and 60
- D. 59 and 108

58. What is the meaning of *Kujur* surname in "*Kurukh*" ethnic group?

- A. Fruit Plant
- B. Ornamental Plant
- C. Medicinal Plant
- D. Spices Plant

59. Netaji Subhash Chandra Bose State Police Academy is located at-

- A. Mainpat
- B. Chandrakhuri
- C. Mana
- D. Kanker

60. For which related field in 2021 Dr. Radheshyam Barle of Chhattisgarh was awarded with *Padma Shri* award by the Government of India?

- A. Education & Literature
- B. Social Work
- C. Archaeology
- D. Art & Music

57. छत्तीसगढ़ राज्य में कृषि उत्पादन के सुनियोजित विपणन हेतु कितनी कृषि उपज उप-मण्डी एवं मण्डी है?

- A. 118 व 69
- B. 69 व 118
- C. 108 व 60
- D. 59 व 108

58. जातीय समूह "कुरुख" में कुजूर उपनाम का क्या अर्थ है?

- A. फलों का पौधा
- B. सजावटी पौधा
- C. औषधीय पौधा
- D. मसाले का पौधा

59. नेताजी सुभाष चंद्र बोस राज्य पुलिस अकादमी कहाँ स्थित है?

- A. मैनपाट
- B. चन्द्रखुरी
- C. माना
- D. कांकेर

60. किस क्षेत्र के लिए वर्ष 2021 में छत्तीसगढ़ के डॉ. राधेश्याम बार्ले को भारत सरकार द्वारा पद्म श्री पुरस्कार से सम्मानित किया गया?

- A. शिक्षा एवं साहित्य
- B. सामाजिक कार्य
- C. पुरातत्व
- D. कला एवं संगीत

---

SPACE FOR ROUGH WORK / रफ कार्य के लिये जगह

### PART-III

## General Knowledge of Computer

## कम्प्यूटर की सामान्य जानकारी

61. Default file extension of word document is-
- A. .doc  
B. .wrđ  
C. .word  
D. .txt
62. ----- is the science that attempts to produce machines that display the same type of intelligence that humans do
- A. Nano Science  
B. Nano Technology  
C. Simulation  
D. Artificial Intelligence (AI)
63. When you insert an Excel file into a Word document, the data is-
- A. Hyperlinked  
B. Placed in a word table  
C. Linked  
D. Embedded
64. "Help line" no. for registering complaint against Cyber Crime-
- A. 100  
B. 112  
C. 1093  
D. 1098
61. वर्ड डॉक्यूमेंट्स के लिए डिफॉल्ट फाइल एक्सटेंशन क्या है?
- A. .doc  
B. .wrđ  
C. .word  
D. .txt
62. वह विज्ञान है जो ऐसी मशीनों का निर्माण करने का प्रयास करता है जो उसी प्रकार की बुद्धि प्रदर्शित करती है जो मनुष्य करते हैं-
- A. नैनो विज्ञान  
B. नैनो टेक्नोलॉजी  
C. सिमुलेशन  
D. आर्टिफिशियल इंटेलिजेंस (एआई)
63. जब आप Excel फाइल किसी Word दस्तावेज में सम्मिलित करते हैं, तो डेटा ----- होता है।
- A. हाइपरलिंकड  
B. वर्ड टेबल में रखा गया  
C. लिंकड  
D. एम्बेडेड
64. साइबर क्राइम के विषय में शिकायत दर्ज करने हेतु "हेल्प लाइन" नंबर है-
- A. 100  
B. 112  
C. 1093  
D. 1098

SPACE FOR ROUGH WORK / रफ कार्य के लिये जगह

65. Thesaurus tool in MS Word is used for-

- A. Spelling suggestions
- B. Grammar options
- C. Synonyms and Antonyms words
- D. All of above

65. थिसॉरस (Thesaurus) टूल का प्रयोग एम एस वर्ड में किसके लिए किया जाता है?

- A. स्पेलिंग सुझाव
- B. व्याकरण विकल्प
- C. पर्यायवाची और विलोम शब्द
- D. ऊपर के सभी

---

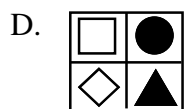
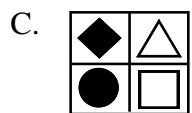
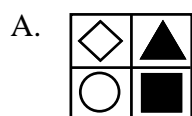

SPACE FOR ROUGH WORK / रफ कार्य के लिये जगह

PART-IV

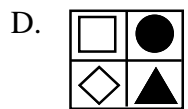
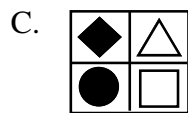
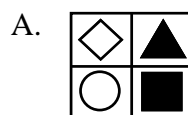

General Mental Aptitude

सामान्य मानसिक योग्यता

66. Identify the most appropriate figure that completes the pattern.



66. पैटर्न को पूरा करने वाली सबसे उपयुक्त आकृति को पहचानें।



67. Find the next number in the given sequence.

11, 39, 89, 167, ?

- A. 144
- B. 225
- C. 189
- D. 279

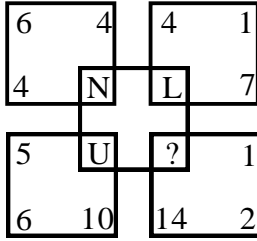
67. दिए गए क्रम में अगली संख्या ज्ञात कीजिए।

11, 39, 89, 167, ?

- A. 144
- B. 225
- C. 189
- D. 279

SPACE FOR ROUGH WORK / रफ कार्य के लिये जगह

68. Which letter replaces the question mark (?) in the following figure?

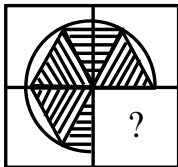


- A. M                      B. Q  
C. B                        D. G

69. In a class of 60 students where girls are twice that of boys, Laxmi ranked 27<sup>th</sup> from the top. If there are 9 boys ahead of Laxmi, how many girls are after her rank?

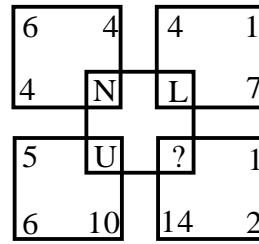
- A. 23  
B. 21  
C. 22  
D. 24

70. Identify the figure that completes the pattern.



- A.   
B.   
C.   
D.

68. निम्नलिखित आकृति में कौन सा अक्षर प्रश्नवाचक चिन्ह (?) के स्थान पर आएगा?

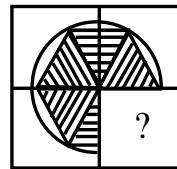


- A. M                      B. Q  
C. B                        D. G

69. 60 छात्रों की एक कक्षा में लड़कियों की संख्या लड़कों से दोगुनी है, 'लक्ष्मी' शीर्ष से 27<sup>वें</sup> स्थान पर है। यदि लक्ष्मी से 9 लड़के आगे हैं, तो उसके रैंक के बाद कितनी लड़कियाँ होंगी?

- A. 23  
B. 21  
C. 22  
D. 24

70. पैटर्न को पूरा करने वाली आकृति को पहचानें।



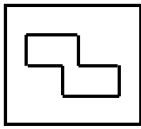
- A.   
B.   
C.   
D.

SPACE FOR ROUGH WORK / रफ कार्य के लिये जगह

71. In a certain code, MONKEY is written as XCHJJG. How is TIGER written in that code?

- A. SHFDQ
- B. OEDCQ
- C. QDFHS
- D. QCDEO

72. Find out the alternative figure which contains following figure as its part.



- A.
- B.
- C.
- D.

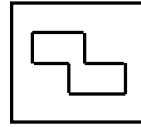
73. A is B's sister. C is B's mother. D is C's father. E is D's mother. Then, how is A related to D?

- A. Grandfather
- B. Grandmother
- C. Daughter
- D. Granddaughter

71. किसी कोड में अगर MONKEY को XCHJJG के रूप में लिखा जाता है। तो उसी कोड में TIGER को कैसे लिखा जायेगा?

- A. SHFDQ
- B. OEDCQ
- C. QDFHS
- D. QCDEO

72. वह आकृति ज्ञात कीजिए जिसमें निम्नलिखित आकृति उसके भाग के रूप में छिपी है।



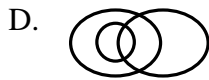
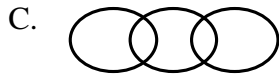
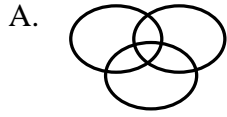
- A.
- B.
- C.
- D.

73. A, B की बहन है। C, B की माता है। D, C का पिता है। E, D की माता है। तो, A, D से किस प्रकार संबंधित है?

- A. दादाजी
- B. दादी
- C. बेटी
- D. पोती

SPACE FOR ROUGH WORK / रफ कार्य के लिये जगह

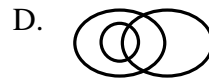
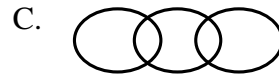
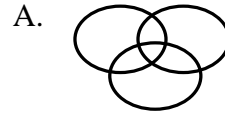
74. Which of the following Venn- diagram correctly illustrates the relationship among the 'Tennis fans', 'Cricket players', 'Students'?



75. Find out the two signs to be interchanged for making following equation correct:  
 $5 + 3 \times 8 - 12 / 4 = 3$

- A. + and -  
 B. - and /  
 C. + and  $\times$   
 D. + and /

74. निम्नलिखित में से कौन सा वेन-आरेख 'टेनिस प्रशंसक', 'क्रिकेट खिलाड़ी' एवं 'छात्र' के बीच संबंध को सही ढंग से दर्शाता है?



75. निम्नलिखित समीकरण को सही बनाने के लिए किन दो चिन्हों को आपस में बदलना होगा:

$$5 + 3 \times 8 - 12 / 4 = 3$$

- A. + और -  
 B. - और /  
 C. + और  $\times$   
 D. + और /

---

SPACE FOR ROUGH WORK / रफ कार्य के लिये जगह



## PART-V

### General Mathematics

### सामान्य गणित

76. A man travels for 5 hours 15 minutes. If he covers the first half of the journey at 60 km/h and rest at 45 km/h. Find the total distance travelled by him.

- A. 378 km
- B. 270 km
- C. 1028 km
- D. 189 km

77. Find the number of years in which a certain amount of money will triple itself with simple interest at 25% per annum?

- A. 12 years
- B. 15 years
- C. 10 years
- D. 8 years

78. Monthly incomes of A and B are in the ratio of 4:3 and their monthly expenses bear the ratio 3:2. If each of them saves ₹ 6000 at the end of the month, then the monthly income of A is-

- A. ₹ 12000
- B. ₹ 24000
- C. ₹ 30000
- D. ₹ 60000

76. एक आदमी यात्रा पर निकलता है और कुल 5 घंटे 15 मिनट की यात्रा करता है। दूरी का पहला आधा भाग उसने 60 किमी/घंटा और दूसरा आधा भाग 45 किमी/घंटा की गति से तय किया। उसने कुल कितनी दूरी तय की?

- A. 378 किमी
- B. 270 किमी
- C. 1028 किमी
- D. 189 किमी

77. कितने वर्षों में कोई धनराशि 25% प्रतिवर्ष साधारण ब्याज की दर पर तिगुनी हो जाएगी?

- A. 12 वर्ष
- B. 15 वर्ष
- C. 10 वर्ष
- D. 8 वर्ष

78. A तथा B के मासिक आय का अनुपात 4:3 है तथा उनके मासिक व्यय का अनुपात 3:2 है। यदि प्रत्येक ₹ 6000 प्रति माह बचाता है, तो A की मासिक आय कितनी है?

- A. ₹ 12000
- B. ₹ 24000
- C. ₹ 30000
- D. ₹ 60000

---

SPACE FOR ROUGH WORK / रफ कार्य के लिये जगह

79. The speed of a boat in still water is 15km/hr and the speed of the current is 5km/hr.. The distance (in km) travelled by the boat downstream in 15 minutes is-

- A. 4
- B. 5
- C. 6
- D. 8

80. Which one of the following will completely divide  $(3^{25} + 3^{26} + 3^{27} + 3^{28})$  ?

- A. 11
- B. 16
- C. 25
- D. 30

81. A man sold an article at a gain of 15%. Had he sold it for ₹ 6 more, he would have gained 18%. The cost price of the article is-

- A. ₹ 100
- B. ₹ 150
- C. ₹ 200
- D. ₹ 250

79. शांत जल में एक नाव की गति 15 किमी/घंटा है। यदि धारा की गति 5 किमी/घंटा हो, तो धारा के अनुकूल जाते हुए नाव 15 मिनट में कितनी दूरी (किमी में) तय करेगी?

- A. 4
- B. 5
- C. 6
- D. 8

80.  $(3^{25} + 3^{26} + 3^{27} + 3^{28})$  निम्नलिखित में से किस संख्या से विभाजित होगा?

- A. 11
- B. 16
- C. 25
- D. 30

81. एक व्यक्ति किसी वस्तु को 15% लाभ पर बेचता है। यदि उसने इसे ₹ 6 अधिक पर बेचा होता, तो उसे 18% का लाभ होता। व्यक्ति ने वह वस्तु कितने रुपये में खरीदी थी?

- A. ₹ 100
- B. ₹ 150
- C. ₹ 200
- D. ₹ 250

---

SPACE FOR ROUGH WORK / रफ कार्य के लिये जगह

82. The price of sugar goes up by 20%. By what percent must the consumption of sugar be reduced so that the expenditure on sugar may remain the same?

- A. 80%
- B.  $16\frac{2}{3}\%$
- C. 20%
- D.  $83\frac{1}{3}\%$

83. The least fraction among  $\frac{2}{3}$ ,  $\frac{3}{5}$ ,  $\frac{7}{9}$  and  $\frac{11}{13}$  is-

- A.  $\frac{7}{9}$
- B.  $\frac{11}{13}$
- C.  $\frac{3}{5}$
- D.  $\frac{2}{3}$

84. If ratio of the areas of two similar triangles is 4:9, then the ratio of their corresponding sides is-

- A. 2:3
- B. 3:2
- C. 4:9
- D. 9:4

82. चीनी की कीमत में 20% की वृद्धि की गई है। चीनी की खपत में कितने प्रतिशत की कटौती की जानी चाहिये, जिससे चीनी पर व्यय में कोई अतिरिक्त वृद्धि न हो?

- A. 80%
- B.  $16\frac{2}{3}\%$
- C. 20%
- D.  $83\frac{1}{3}\%$

83.  $\frac{2}{3}$ ,  $\frac{3}{5}$ ,  $\frac{7}{9}$  और  $\frac{11}{13}$  में से सबसे छोटी भिन्न कौन सी है?

- A.  $\frac{7}{9}$
- B.  $\frac{11}{13}$
- C.  $\frac{3}{5}$
- D.  $\frac{2}{3}$

84. यदि दो समरूप त्रिभुजों के क्षेत्रफल का अनुपात 4:9 है, तो उनके संगत भुजाओं का अनुपात क्या होगा?

- A. 2:3
- B. 3:2
- C. 4:9
- D. 9:4

---

SPACE FOR ROUGH WORK / रफ कार्य के लिये जगह

85. What is value of

$$\sqrt{\frac{(0.1)^2 + (0.01)^2 + (0.009)^2}{(0.01)^2 + (0.001)^2 + (0.0009)^2}}$$

- A. 102
- B. 10
- C. 0.1
- D. 0.01

85.

$$\sqrt{\frac{(0.1)^2 + (0.01)^2 + (0.009)^2}{(0.01)^2 + (0.001)^2 + (0.0009)^2}} \text{ का मान क्या है?}$$

- A. 102
- B. 10
- C. 0.1
- D. 0.01

---

SPACE FOR ROUGH WORK / रफ कार्य के लिये जगह

**PART-VI**

**General Hindi**

**सामान्य हिन्दी**

86. 'उत्कंठा' का पर्यायवाची शब्द होगा-
- A. श्रेष्ठ  
B. आतुर  
C. उत्सुकता  
D. उत्साह
87. 'भरसक' इनमें से कौन सा समास है?
- A. तत्पुरुष  
B. कर्मधारय  
C. अव्ययीभाव  
D. बहुब्रीहि
88. निम्न शब्द में शुद्ध रूप है-
- A. प्रमाणिक  
B. प्रमणिक  
C. प्रामणिक  
D. प्रामाणिक
89. ज, झ, ञ इनका उच्चारण स्थान है-
- A. कंठ्य  
B. तालव्य  
C. दंत्य  
D. ओष्ठ्य
90. 'कान लगाना' मुहावरे का अर्थ होगा-
- A. बुराई करना  
B. ध्यान देना  
C. सुना देना  
D. ध्यान से सुनना
91. 'उन्चास' का तत्सम रूप होगा-
- A. ऊनचत्वारिंशत्  
B. ऊनपंचाशत्  
C. ऊनत्रिंशत्  
D. ऊनविंशति
92. कंद-मूल-फल में कौन सा समास है?
- A. समाहार द्वन्द्व  
B. वैकल्पिक द्वन्द्व  
C. इतरेतर द्वन्द्व  
D. द्वन्द्व समास
93. 'पानी फेर देना' मुहावरे का अर्थ होगा-
- A. बेकार कर देना  
B. बिगाड़ देना  
C. बुरा करना  
D. संकट में डालना

---

SPACE FOR ROUGH WORK / रफ कार्य के लिये जगह

94. 'आसान' शब्द का विलोम शब्द है-

- A. कठिन
- B. मुश्किल
- C. सरल
- D. सामान्य

95. अधिक समय तक जीने की इच्छा - वाक्यांश के लिए एक शब्द होगा-

- A. जिजीविषु
- B. जितेन्द्रिय
- C. जिगीषु
- D. जिजीविषा

---

SPACE FOR ROUGH WORK / रफ कार्य के लिये जगह

## PART-VII

### General English

### सामान्य अंग्रेजी

96. Ramya is a teacher in Bharti School, Surajpur.

Which statement would be grammatically correct for her?

- A. She goes to school everyday
- B. She goes to the school everyday
- C. She goes to a school everyday
- D. She goes to one school everyday

97. He lives ----- campus.

Apply the correct preposition.

- A. in
- B. on
- C. within
- D. at

98. Either he or I ----- going to be the next manager.

Apply the correct auxiliary.

- A. is
- B. am
- C. are
- D. will be

99. Read the following statements:

- I. Ganesh hanged the calendar.
- II. Ganesh hung the calendar.
- III. The executioner hung the condemned.
- IV. The executioner hanged the condemned.

Which of the given statements are grammatically correct?

- A. I, II & III
- B. I & II
- C. III & IV
- D. II & IV

100. Until and unless, the candidate pays the fees, his/her admission would not be confirmed.

Here,

- A. 'Until' denotes condition and 'unless' denotes time
- B. 'Until' denotes time and 'unless' denotes condition
- C. Both 'until' and 'unless' denote time
- D. Both 'until' and 'unless' denote condition

---

SPACE FOR ROUGH WORK / रफ कार्य के लिये जगह

**SET - A**

उत्तर अंकित करने का समय : 2 घंटे  
Time for making answers : 2 Hours

अधिकतम अंक : 300  
Maximum Marks : 300

नोट :

1. इस प्रश्न पुस्तिका में निम्न भाग होंगे -

क्र.	पाठ्यक्रम	प्रश्न	अंक
1.	सामान्य अध्ययन	35	105
2.	राज्य का सामान्य ज्ञान	25	75
3.	कम्प्यूटर की सामान्य जानकारी	5	15
4.	सामान्य मानसिक योग्यता	10	30
5.	सामान्य गणित	10	30
6.	सामान्य हिन्दी	10	30
7.	सामान्य अंग्रेजी	5	15

प्रत्येक प्रश्न 03 अंक का है। कुल 100 प्रश्न करने अनिवार्य है।

- प्रश्नों के उत्तर, दी गई OMR उत्तरशीट (आंसरशीट) पर अंकित कीजिए।
- ऋणात्मक मूल्यांकन नहीं किया जावेगा।
- किसी भी तरह के कैलकुलेटर या लॉग टेबल एवं मोबाइल फोन का प्रयोग वर्जित है।
- OMR उत्तरशीट (आंसरशीट) का प्रयोग करते समय ऐसी कोई असावधानी न करें/बरतें जिससे यह फट जाये या उसमें मोड़ या सिलवट आदि पड़ जाये जिसके फलस्वरूप वह खराब हो जाये।

Note :

1. This Questions Booklet contains Parts -

S.no.	Syllabus	Questions	Marks
1.	General Studies	35	105
2.	General Knowledge of State	25	75
3.	General Knowledge of Computer	5	15
4.	General Mental Aptitude	10	30
5.	General Mathematics	10	30
6.	General Hindi	10	30
7.	General English	5	15

Each question carries 03 mark. All 100 questions are compulsory

- Indicate your answers on the OMR Answer-Sheet provided.
- No negative marking will be done.
- Use of any type of calculator or log table and mobile phone is prohibited.
- While using Answer-Sheet care should be taken so that the Answer-Sheet does not get torn or spoiled due to folds and wrinkles.